

2007 M. ISTORIJOS

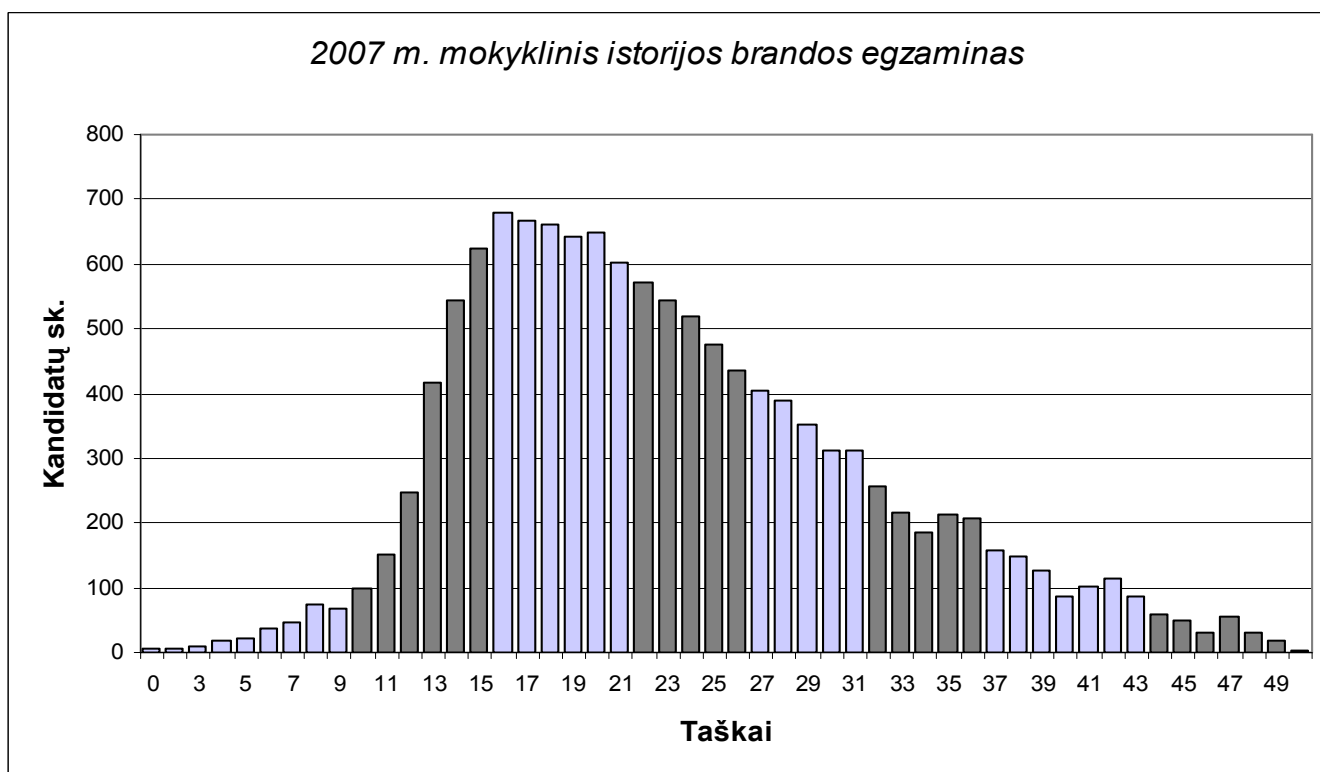
MOKYKLINIO BRANDOS EGZAMINO REZULTATŲ

STATISTINĖ ANALIZĖ

2007 m. birželio 6 d. mokyklinį istorijos brandos egzaminą laikė 13877 kandidatai – vidurinio ugdymo programos baigiamųjų klasių mokiniai, kitų laidų abiturientai.

Egzamino užduotis buvo vertinama 50 taškų. Egzaminui išlaikyti reikėjo surinkti ne mažiau kaip 10 taškų (t.y. ne mažiau kaip 20 proc. visų galimų taškų). Egzamino neišlaikė 2,1 proc. laikusiųjų kandidatų.

Mokyklinio istorijos brandos egzamino užduoties pažymių ir taškų pasiskirstymas pateiktas 1 diagramoje.

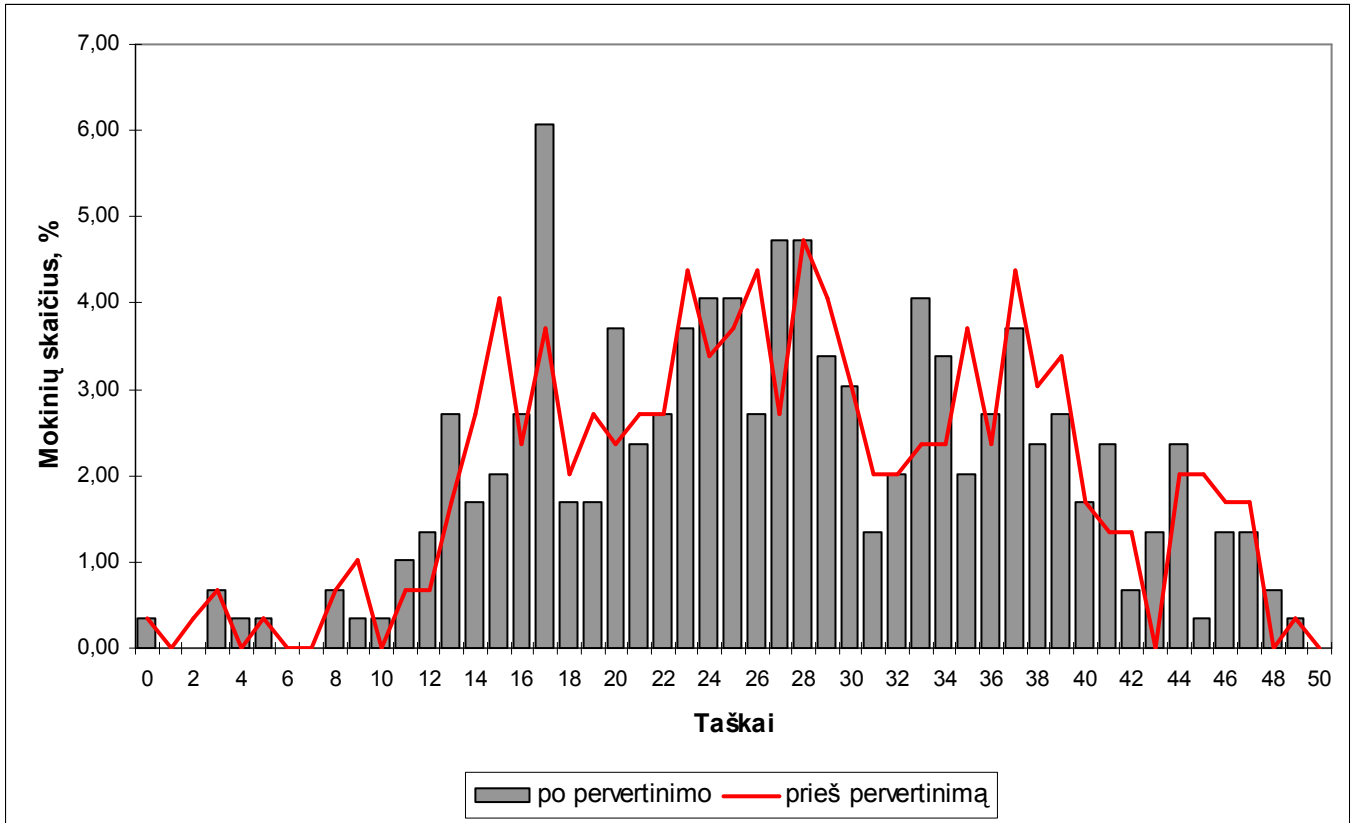


1 diagrama. Mokyklinio brandos egzamino taškų pasiskirstymas (vienodai nuspalvinti gretimi stulpeliai atitinka tą patį pažymį)



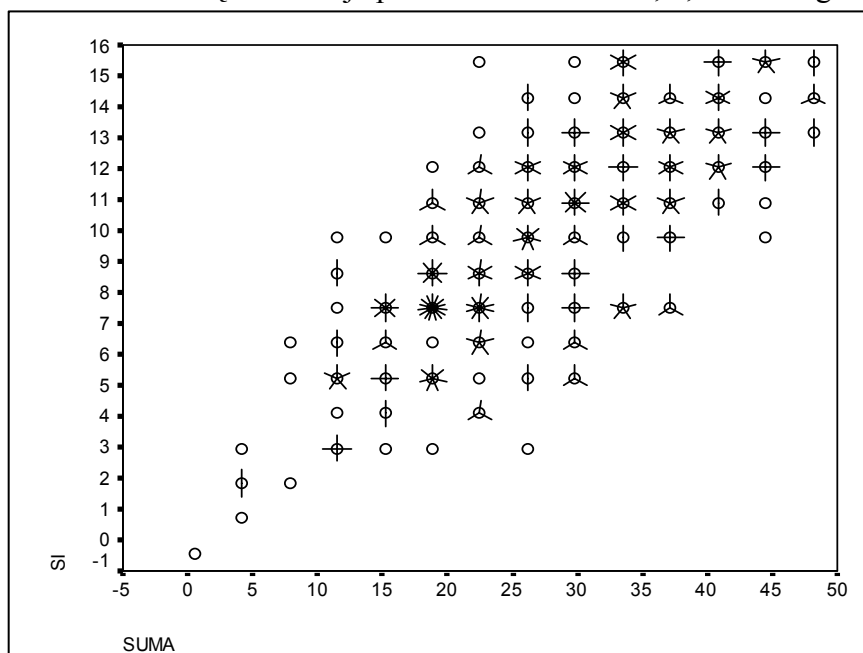
Mokyklinio istorijos brandos egzamino užduoties statistinei analizei atlikti Nacionalinis egzaminų centras sisteminės atrankos būdu išrinko 400 mokinių darbų imtį. Šie darbai buvo pristatyti į Nacionalinį egzaminų centrą. Dalyko specialistų grupė juos peržiūrėjo, iš naujo įvertino atvirojo tipo mokinių atsakymus bei rašymo darbą.

Pateikiame šių 400 darbų rezultatų diagramą, iš kurios matyti, kaip pasikeitė mokinių rezultatai po darbų pervertinimo.

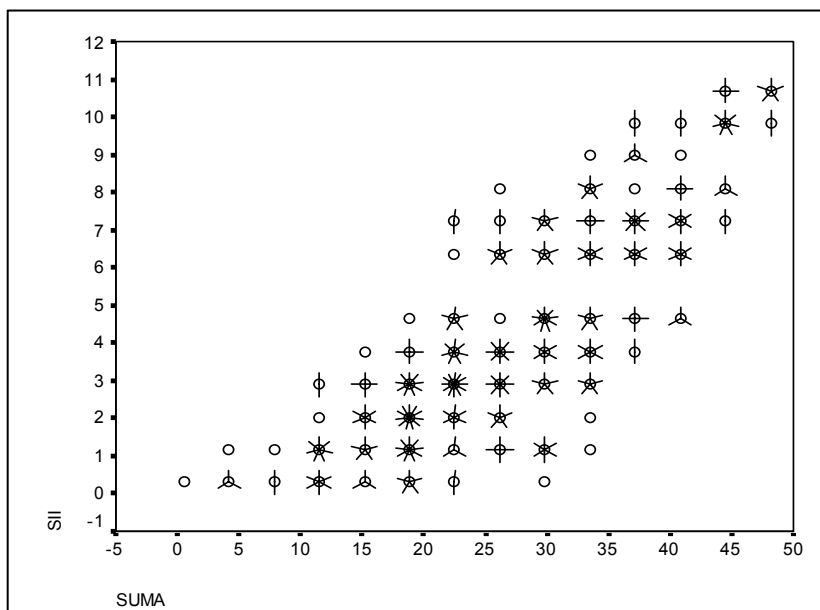


2 diagrama. Išrinktų darbų imties rezultatų pasiskirstymas prieš ir po pervertinimo

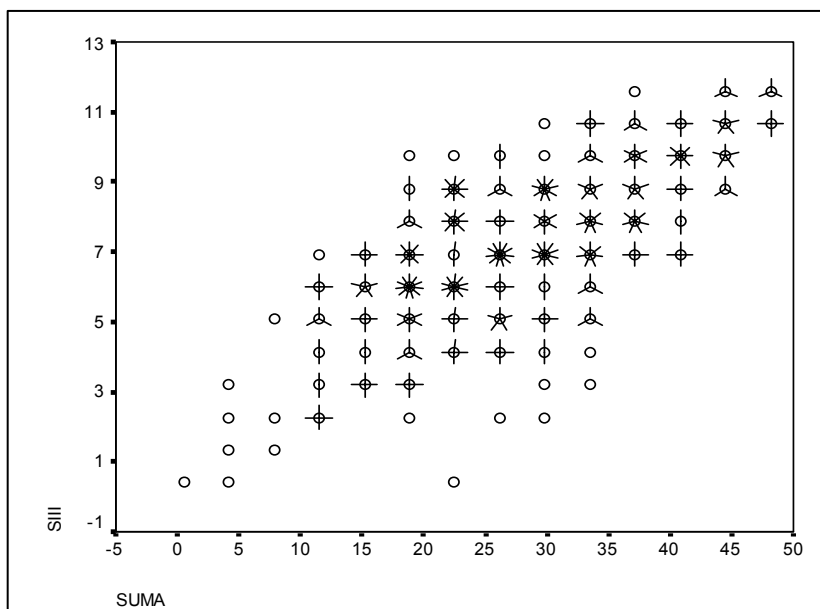
Istorijos mokyklinio brandos egzamino užduotis sudaryta iš 4 dalių. Atskirų užduoties dalių taškų ir visos egzamino užduoties rezultatų koreliacija pateikta atitinkamai 3, 4, 5 ir 6 diagramose.



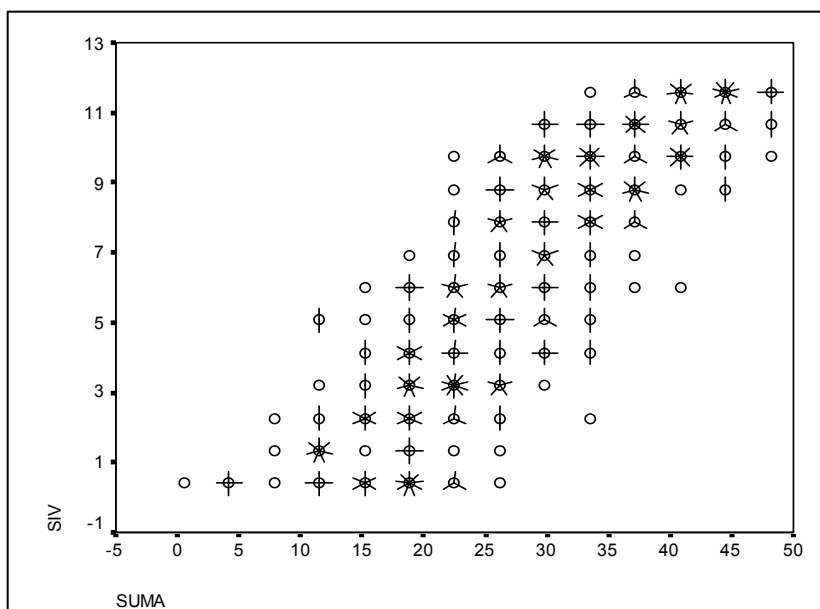
3 diagrama. I dalies (1-15 klausimų) ir visos egzamino užduoties koreliacija



4 diagrama. II dalies (16-23 klausimų) ir visos egzamino užduoties koreliacija



5 diagrama. III dalies (24-30 klausimų) ir visos egzamino užduoties koreliacija



**6 diagrama. IV dalies (30-38 klausimų) ir visos egzamino užduoties koreliacija**

Apdorojus darbų imtį, kiekvienam užduoties klausimui (ar jo daliai, jei jis turėjo struktūrinės dalis) buvo nustatyta:

- **kuri dalis (procentais) kandidatų pasirinko atitinkamą atsakymą** (A, B, C ar D, jei užduotis buvo su pasirenkamaisiais atsakymais) **ar surinko atitinkamą skaičių taškų** (0, 1, 2 ir t.t.);
- **klausimo sunkumas**. Šio parametro skaitinė reikšmė yra procentinis santykis

$$\frac{(\text{visų kandidatų už šį klausimą surinktų taškų suma})}{(\text{visų už šį klausimą teoriškai galimų surinkti taškų suma})}$$

Jei klausimas buvo vertinamas vienu tašku, tai jo sunkumas tiesiogiai parodo, kuri dalis kandidatų į tą klausimą atsakė teisingai;

- **klausimo skiriamoji geba**. Šis parametras rodo, kaip atskiras egzamino klausimas išskiria stipresnius ir silpnesnius kandidatus. Jei klausimas buvo labai lengvas ir į jį beveik vienodai sėkmingai atsakė ir stipresnieji, ir silpnesnieji, tai tokio klausimo skiriamoji geba maža. Panaši skiriamoji geba gali būti ir labai sunkaus klausimo, į kurį neatsakė taip pat beveik visi. Neigiama skiriamosios gebos reikšmė rodo, kad silpnesnieji (sprendžiant pagal visą egzamino užduotį) už tą klausimą surinko daugiau taškų nei stipresnieji (tai tikrai blogo klausimo požymis);

- **klausimo koreliacija su visa užduotimi**. Tai to klausimo ir visų užduoties taškų koreliacijos koeficientas (skaičiuotas Pirsono koreliacijos koeficientas). Šis parametras rodo, kuria dalimi atskiras klausimas matuoja taip, kaip ir visa užduotis. Aišku, daugiataškio klausimo koreliacija su visa užduotimi yra didesnė nei vienataškio.

Toliau pateikiama istorijos mokyklinio brandos egzamino užduoties rezultatų analizė.



2007 M. ISTORIJS MOKYKLINIO BRANDOS EGZAMINO UŽDUOTIS

Teisingas atsakymas į kiekvieną iš 1–15 klausimų vertinamas vienu tašku. Į šiuos klausimus yra tik po vieną teisingą atsakymą. Pažymėkite teisingą atsakymą apveddami prieš jį esančią raidę.

Taškų pasiskirstymas (%)								Sunkumas	Skiriamoji geba	Koreliacija
0	1	2	3	4	5	6	7			
0,34	0,34	1,01	2,70	2,03	7,77	5,41	9,46	0,65	0,40	0,75
Taškų pasiskirstymas (%)										
8	9	10	11	12	13	14	15			
6,76	8,78	8,45	11,82	11,82	9,80	7,09	6,42			

1. Kuris iš šių reiškinių būdingas senovės Romos valstybei?

- A Aukščiausių valdžios pareigūnų rinkimas burtų keliu.
- B Kovos su germanų gentimis.
- C Krikščionių bažnyčios skilimas į katalikų ir stačiatikių.
- D Susidūrimai su arabų kalifatu.

Taškų pasiskirstymas (%)		Sunkumas	Skiriamoji geba	Koreliacija
0	1			
53,72	46,28	0,46	0,33	0,29

2. Reformacijos šalininkai Europoje:

- A atsisakė dvasininkų celibato;
- B iškelė popiežiaus autoritetą;
- C pasisakė už indulgencijų platinimą;
- D skatino vienuolynų mokyklų steigimą.

Taškų pasiskirstymas (%)		Sunkumas	Skiriamoji geba	Koreliacija
0	1			
56,08	43,92	0,44	0,49	0,39

3. 1939 m. spalio 10 d. Lietuvos Respublikos ir Sovietų Sąjungos sutartimi nuspręsta:

- A gražinti Lietuvai Vilniaus kraštą;
- B išvesti iš Lietuvos sovietų karines įgulas;
- C legalizuoti Lietuvos komunistų partiją;
- D uždrausti tautininkų partijos veiklą Lietuvoje.

Taškų pasiskirstymas (%)		Sunkumas	Skiriamoji geba	Koreliacija
0	1			
20,27	79,73	0,80	0,29	0,44

4. Pagal 1922 m. priimtą žemės reformos įstatymą Lietuvoje:

- A nacionalizuotos bažnyčių ir vienuolynų žemės;
- B siekta įtvirtinti stambią dvarininkų žemėvaldą;
- C siekta sukurti vidutinių valstiečių sluoksnį;
- D sustabdytas kaimų skirstymas į vienkiemius.

Taškų pasiskirstymas (%)		Sunkumas	Skiriamoji geba	Koreliacija
0	1			
44,59	55,71	0,55	0,53	0,43



5. B. Musoliniui atėjus į valdžią Italijoje:
- A atsisakyta grobikiškos užsienio politikos;
 - B sustiprėjo parlamento vaidmuo;
 - C suvalstybintas žemės ūkis;
 - D uždrausta opozicinių partijų veikla.

Taškų pasiskirstymas (%)		Sunkumas	Skiriamoji geba	Koreliacija
0	1			
23,65	76,35	0,76	0,46	0,48

6. Kolūkiai Lietuvoje buvo pradėti naikinti:
- A 1953 m. mirus Stalinui;
 - B 1985 m. prasidėjus „Perestroikai“;
 - C 1990 m. po Nepriklausomybės atkūrimo;
 - D 2004 m. Lietuvai įstojus į Europos Sąjungą.

Taškų pasiskirstymas (%)		Sunkumas	Skiriamoji geba	Koreliacija
0	1			
30,07	69,93	0,70	0,40	0,34

7. Antrosios Sovietinės okupacijos metu (1944–1953 m.) Lietuvoje:
- A buvo išrinktas Steigiamasis Seimas;
 - B veikė disidentinė „Helsinkio grupė“;
 - C vykdyta kolektyvizacija;
 - D vyko holokaustas.

Taškų pasiskirstymas (%)		Sunkumas	Skiriamoji geba	Koreliacija
0	1			
29,39	70,61	0,71	0,39	0,36

8. 1927–1939 m. Lietuvoje:
- A įkurtas Lietuvos universitetas Kaune;
 - B įsitvirtino demokratinis valdymas;
 - C pradėta kolektyvizuoti žemės ūkį;
 - D prezidentą rinko Tautos Atstovai.

Taškų pasiskirstymas (%)		Sunkumas	Skiriamoji geba	Koreliacija
0	1			
52,36	47,64	0,48	0,56	0,47

9. 1920–1925 m. Lietuvoje:
- A įvesta cenzūra;
 - B diegta ateistinė pasaulėžiūra;
 - C uždrausta socialdemokratų partija;
 - D valdė krikščionių demokratų partija.

Taškų pasiskirstymas (%)		Sunkumas	Skiriamoji geba	Koreliacija
0	1			
38,18	61,82	0,62	0,57	0,47

10. Pagal 1992 m. Lietuvos Respublikos Konstituciją politinių partijų veikloje negali dalyvauti:
- A Ministras Pirmininkas;
 - B Prezidentas;
 - C Seimo Pirmininkas;
 - D Švietimo ministras.

Taškų pasiskirstymas (%)		Sunkumas	Skiriamoji geba	Koreliacija
0	1			
19,93	80,07	0,80	0,34	0,38



11. Kuri iš šių tarptautinių organizacijų šiemet švenčia 50-ies metų įkūrimo jubiliejų?

- A** Europos Sąjunga.
- B** Europos Taryba.
- C** JTO.
- D** NATO.

Taškų pasiskirstymas (%)		Sunkumas	Skiriamoji geba	Koreliacija
0	1			
48,99	51,01	0,51	0,49	0,39

12. Pagal 1992 m. Lietuvos Respublikos Konstituciją:

- A** draudžiama darbuotojams streikuoti;
- B** Lietuvoje nėra valstybinės religijos;
- C** ribojama sąžinės laisvė;
- D** vidurinis mokymas yra privalomas.

Taškų pasiskirstymas (%)		Sunkumas	Skiriamoji geba	Koreliacija
0	1			
49,66	50,34	0,50	0,46	0,41

13. Kokia partinė sistema veikia šiandieninėje Lietuvoje?

- A** Daugiapartinė.
- B** Dvipartinė.
- C** Su dominuojančia viena partija.
- D** Vienpartinė.

Taškų pasiskirstymas (%)		Sunkumas	Skiriamoji geba	Koreliacija
0	1			
6,08	93,92	0,94	0,08	0,16

14. Kada Europoje pirmą kartą moterims buvo suteikta rinkimų teisė?

- A** XIX a. viduryje.
- B** XIX a. pabaigoje.
- C** XX a. pradžioje.
- D** XX a. viduryje.

Taškų pasiskirstymas (%)		Sunkumas	Skiriamoji geba	Koreliacija
0	1			
46,28	53,72	0,54	0,30	0,30

15. Kurioje eilutėje yra išvardytos visos trys valstybės, kurios 1938–1940 m. įteikė Lietuvai po ultimatumą?

- A** Anglija, JAV, Prancūzija.
- B** Baltarusija, Sovietų Sąjunga, Ukraina.
- C** Estija, Latvija, Suomija.
- D** Lenkija, Sovietų Sąjunga, Vokietija.

Taškų pasiskirstymas (%)		Sunkumas	Skiriamoji geba	Koreliacija
0	1			
12,16	87,84	0,88	0,20	0,29



Į 16–23 klausimus atsakykite remdamiesi šaltiniais A, B ir C.

ŠALTINIS A (Iš IX a. valstiečio pasidavimo rašto)

Dievo vardu [...] atėjau į Anvilį, į viešą susirinkimą, dalyvaujant visiems žmonėms ir šlovingam grafui Teutboldui [...] ir ten jų akivaizdoje prašiau, o jūsų valia nusprendė, ir ne prievarta, ne apgaule, o savo laisva valia apjuosiau sprandą diržu ir atidaviau į Aliardo ir jo žmonos Ermengardos rankas valdyti savo laisvąjį turtą [...]; ir štai nuo šios dienos ir su manim pačiu, ir su mano palikuonimis jūs ir jūsų įpėdiniai galite daryti viską [...] valdyti, dovanoti ir į laisvę paleisti.

ŠALTINIS B (Iš Žano Ibelino knygos)

Kai kas nors [...] stoja aukščiausiojo karalystės senjoro vasalinėn priklausomybėn, jis turi atsiklausti prieš šį, sudėti savo rankas ir, įdėjęs jas į senjoro rankas, tarti jam: „Sire, štai aš tampa jūsų artimiausiu vasalu už tokį ir tokį feodą [...]“. Senjoras neturi [...] liesti savo vasalo asmens ir feodo kitaip, kaip kurijai apsvarsčius ir leidus [...]; nes tarp senjoro ir vasalo nėra nieko, išskyrus ištikimybę, ir šią ištikimybę jie turi kruopščiai ir abipusiškai saugoti [...]. Vasalai turi atlikti savo senjorui [...] tarnybą, jo iškviešti, raiti ir įsiginklavę visose karalystės vietose [...].

ŠALTINIS C (Iš 1182 m. Reimso vyskupo chartijos Bomono miestiečiams)

2. Leidžiame visiems jums ir visiems kitiems, ten gyvenantiems, pirkti ir parduoti viską, ką norite, laisvai ir ramiai, nemokant mokesčių už vyną ir prekybos mokesčių.

9. [...] ir meras, ir prisiekusieji eis savo pareigas ilgiau kaip metus, tik visiems sutikus [...].

48. Jeigu kas pasislėps už miesto sienų dėl kokio nusikaltimo, išskyrus vagystę ir žmogžudystę, jį globos miesto bendruomenė ir laikys ten tol, kol jam bus paskirtas kitas prieglobstis; ir jeigu jis panorės, tai galės išsiteisinti nuo kaltinimo žmogžudyste ir plėšimu [...].

Taškų pasiskirstymas (%)						Sunkumas	Skiriamoji geba	Koreliacija
0	1	2	3	4	5			
7,77	12,50	10,14	15,20	11,49	9,46			
Taškų pasiskirstymas (%)						0,39	0,51	0,82
6	7	8	9	10	11			
9,80	9,80	4,73	1,69	4,39	3,04			

16. Kurį istorinį laikotarpį atspindi pateikti šaltiniai?

(1 taškas)

Taškų pasiskirstymas (%)		Sunkumas	Skiriamoji geba	Koreliacija
0	1			
45,61	54,39	0,54	0,65	0,54

17. Kokia valstiečio socialinės priklausomybės forma atsispindi šaltinyje A? Remdamiesi žiniomis, paaiškinkite, kodėl valstiečiai į ją patekdavo.

Socialinė priklausomybė

Paaiškinimas

(2 taškai)

Taškų pasiskirstymas (%)			Sunkumas	Skiriamoji geba	Koreliacija
0	1	2			
54,39	28,72	16,89	0,31	0,54	0,59

18. Remdamiesi šaltiniu A, nurodykite du tokios priklausomybės, kurią nustatėte atsakydami į 17-ą klausimą, bruožus.

(1 taškas)

Taškų pasiskirstymas (%)	Sunkumas	Skiriamoji geba	Koreliacija
--------------------------	----------	-----------------	-------------



0	1			
62,50	37,50	0,38	0,54	0,46

- 19.** Remdamiesi šaltiniu B, nurodykite vasalo įsipareigojimus senjorui. Kuo atsilygindavo senjoras vasalui už pastarojo įsipareigojimus?

(1 taškas)

Taškų pasiskirstymas (%)		Sunkumas	Skiriamoji geba	Koreliacija
0	1			
47,97	52,03	0,52	0,47	0,41

- 20.** Paaiškinkite šaltinyje B vartojamą sąvoką *feodas*.

(1 taškas)

Taškų pasiskirstymas (%)		Sunkumas	Skiriamoji geba	Koreliacija
0	1			
66,55	33,45	0,33	0,49	0,46

- 21.** Palyginę šaltinius A ir B, paaiškinkite, kuo valstiečio priklausomybė senjorui iš esmės skiriasi nuo vasalo (vasalinės) priklausomybės senjorui.

(1 taškas)

Taškų pasiskirstymas (%)		Sunkumas	Skiriamoji geba	Koreliacija
0	1			
57,09	42,91	0,43	0,53	0,44

- 22.** Kokią miesto teisinę padėtį apibrėžia ištrauka iš chartijos (šaltinis C)? Atsakymą paaiškinkite remdamiesi šaltinio turiniu.

(2 taškai)

Taškų pasiskirstymas (%)			Sunkumas	Skiriamoji geba	Koreliacija
0	1	2			
36,49	47,97	15,54	0,40	0,37	0,47

- 23.** Kurios santvarkos bruožai atsispindi pateiktuose šaltiniuose? Paaiškinkite, kokio pobūdžio ūkis vyravo šioje santvarkoje.

(2 taškai)

Taškų pasiskirstymas (%)			Sunkumas	Skiriamoji geba	Koreliacija
0	1	2			
50,34	31,76	17,91	0,34	0,58	0,64



124–30 klausimus atsakykite remdamiesi šaltiniais A, B, C ir D.

ŠALTINIS A (Iš Vilniaus generalgubernatoriaus rašto vidaus reikalų ministrui)

Nuo seno Šiaurės Vakarų krašte brendę [...] sunkūs įvykiai pareikalavo būtinų pertvarkymų, kuriuos caro nurodymu ir pradėjo vykdyti mano pirmtakas grafas Michailas Nikolajevičius Muravjovas. Šių pertvarkymų tikslas – [...] su šaknimis išrauti viską, kas [...] sukėlė paskutinį maištą [...].

Uždrausti visiems spaustuvių [...] savininkams spausdinti savo įstaigose bet kokius leidinius lotyniškais ir lenkiškais raidėmis lietuvių ir žemaičių tarmėmis [...] panaudoti visas priemones, kad būtų uždrausta įvežti, parduoti ir bet koku kitu būdu platinti visus leidinius minėtomis tarmėmis, lotyniškais ir lenkiškais raidėmis, [...] ateityje nuolat ir tiksliai vykdyti žodinį mano pirmtako pasiūlymą, kad visos knygos ir rankraščiai lietuvių, žemaičių ir latvių tarmėmis būtų leidžiami spausdinti tik rusiškais pasaulietinės abėcėlės raidėmis.

ŠALTINIS B (Iš Vilniaus generalgubernatoriaus ataskaitos carui)

Nepaisant valdžios išleistų knygų rusišku šriftu, šis šriftas tarp lietuvių neprigijo. Valdžios leidiniai, pardavinėjami pusdykiai, net dalijami nemokamai, visiškai neplito [...] O užsieniniai leidiniai, nepaisant jų brangumo, rizikos, susijusios su kontrabandinio gabenimu, nepaisant jų konfiskavimo, pabaudų, skiriamų lotyniškų lietuviškų knygų laikytojams, jų platintojų arešto – šios knygos plinta Šiaurės vakarų krašte dešimtimis tūkstančių.

Šaltinis C (Iš knygnešio atsiminimų)

Patogiausias metas pakams (ryšuliams) nešti buvo didžiausia pūga, vėtra su lietumi. Pakus nešdavo kuo prasčiausiai apsirėdę [...] Naginės arba vyžos kartais beeinant nuplyšdavo, tai nešikai ir likdavo basi. Pasitaikydavo, kad nešikams gruodu beeinant, kojų padai pradildavo, susikruvindavo ir nuo šalčio kojos nuskauduliudavo [...]. Gangrenai į kojas persimetus, reikėdavo jas nupjauti arba pačiam pasimirti.

ŠALTINIS D

N. 1.

AUSZRA,

Laikraštis, išleidžiamas

per

Dra. Bassanawicziu.

„Auszra“ išeina Ragainej 20. korno mėnesio formate knygotas arkusines in 6, turincios 16 lakstu.

Preke: ant metu arba 12 N. 2 Mk. = 1 rub.,
ant 1/2 metu arba 6 N. 1 Mk. = 50 kap.,
aut 1/4 metu arba 3 N. 50 Pf. = 25 kap.

Apgrasinimai, spaustuvej „Auszros“ priimami, kasztroje su korna pusiau dalita elute po 20 Pf. = 10 kap.

Apistelinoti galima „Auszra“ prie vien wok. cie. pasta uno 10. majans zio m.

Ragainej, Kowinis 1883.

Del redakcijos ateliepta J. Miksas Ragainej.
Spaustuwe Albano & Kibickos.

Metas I. Sausis 1889 m. Num. I.

„Varpas“ uzindiamas Tiltėje 20 kiekvieno mēso tuo Metose prekė su pri-
orantimo

Esuioje . . . 4 rubl.
Prudose . . . 4 mark.
Amerioje ir kitur 6 mark.

VARPAS

literatūros, politikos ir mokslo mėnesinis laikraštis.

Apgrasinimai „Varpė“ kasztōja uz kiekviens ka-
vists dalyta elute minukin
kasztu spausta Zilptei arba
10 kap. priimami „Varpė“
redytorje Hiltendē per limo
ponus, Ostpreuēn.

Metas: Nacjas laikraštis jg. – Varpas, V. Kapsas, Antanas Valis, Johnas L. – Sinadodjimas medis-
J. Ostēra – Andasior si altera pare! Steomas – Ias tēvyniackos dirvus a-b – Hygēos, Hygējos tarmas – Literatūka
„Varpas“ A-o – Ias vaar, Budrys – Polirka – Muzika – Ias produktisku turgaviozau – Pasveje redytoris – Appar
„Jurnal“ – Ias bulletozo Vilniaus meteorologickos observatorija

Taškų pasiskirstymas (%)							Sunkumas	Skiriamoji geba	Koreliacija
0	1	2	3	4	5	6			
1,01	0,68	3,04	4,39	6,08	10,14	13,18	0,59	0,36	0,73
Taškų pasiskirstymas (%)									
7	8	9	10	11	12				
17,23	12,50	13,18	9,12	7,09	2,36				

24. Kaip vadinamas lietuvių tautos istorijos laikotarpis, atspindintis šaltiniuose?

(1 taškas)

Taškų pasiskirstymas (%)		Sunkumas	Skiriamoji geba	Koreliacija
0	1			
24,66	75,34	0,75	0,44	0,43



- 25.** Įvardykite šaltinyje A minimą „paskutinį maištą“. Kokį vaidmenį jame suvaidino M. Muravjovas? (2 taškai)

Taškų pasiskirstymas (%)			Sunkumas	Skiriamoji geba	Koreliacija
0	1	2			
48,99	29,73	21,28	0,36	0,59	0,62

- 26.** Kas šaltinyje A vadinama „Šiaurės Vakarų kraštu“? (1 taškas)

Taškų pasiskirstymas (%)		Sunkumas	Skiriamoji geba	Koreliacija
0	1			
47,64	52,36	0,52	0,39	0,34

- 27.** Koks pagrindinis uždavinys iškeliamas šaltinyje A? Nurodykite du būdus, kuriais ketinta šį uždavinį įgyvendinti.

Uždavinys

Būdai

(2 taškai)

Taškų pasiskirstymas (%)			Sunkumas	Skiriamoji geba	Koreliacija
0	1	2			
12,16	51,01	36,82	0,62	0,27	0,35

- 28.** Remdamiesi šaltiniu B, nurodykite dvi problemas, su kuriomis susidūrė caro valdžia, siekusi įgyvendinti šaltinyje A iškeltą uždavinį. (2 taškai)

Taškų pasiskirstymas (%)			Sunkumas	Skiriamoji geba	Koreliacija
0	1	2			
6,42	23,65	69,93	0,82	0,20	0,29

- 29.** Kurioje valstybėje buvo spausdinami leidiniai, matomi šaltinyje D? Remdamiesi šaltiniu C, paaiškinkite, kaip šie leidiniai plito Lietuvoje. (2 taškai)

Taškų pasiskirstymas (%)			Sunkumas	Skiriamoji geba	Koreliacija
0	1	2			
14,86	59,80	25,34	0,55	0,33	0,46

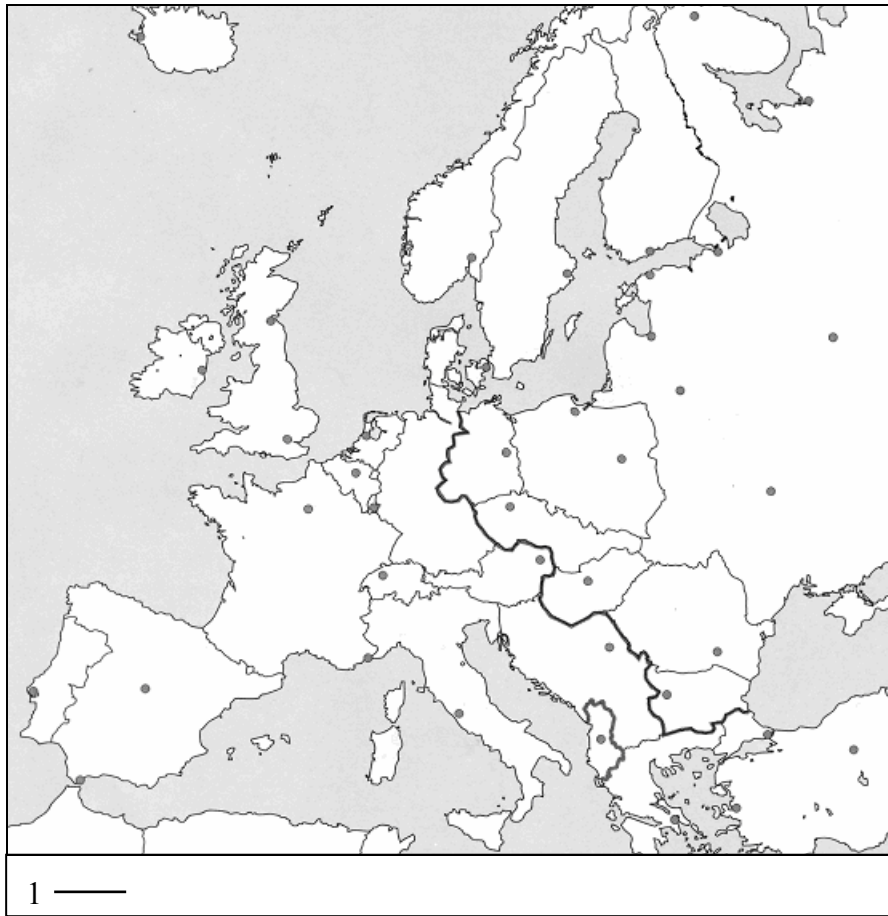
- 30.** Remdamiesi žiniomis, nurodykite, kiek metų truko lietuvių tautos istorijos laikotarpis, kurį įvardijote atsakydami į 24-ąjį klausimą. Remdamiesi šaltiniais B, C ir D, paaiškinkite, kodėl caro valdžia atsisakė priemonių, išdėstytų šaltinyje A. (2 taškai)

Taškų pasiskirstymas (%)			Sunkumas	Skiriamoji geba	Koreliacija
0	1	2			
25,68	36,49	37,84	0,56	0,35	0,41



Į 31–38 klausimus atsakykite remdamiesi žemėlapiu.

ŽEMĖLAPIS



Taškų pasiskirstymas (%)							Sunkumas	Skiriamoji geba	Koreliacija
0	1	2	3	4	5	6			
9,80	5,07	7,09	8,78	6,76	6,76	7,77	0,52	0,66	0,84
Taškų pasiskirstymas (%)									
7	8	9	10	11	12				
4,39	6,76	8,78	11,15	8,78	8,11				

31. Po kurio istorinio įvykio susiformavo žemėlapyje pavaizduotos valstybių sienos?

(1 taškas)

Taškų pasiskirstymas (%)		Sunkumas	Skiriamoji geba	Koreliacija
0	1			
22,30	77,70	0,78	0,48	0,50

32. Paaiškinkite pirmojo sutartinio ženklo reikšmę.

(1 taškas)

Taškų pasiskirstymas (%)		Sunkumas	Skiriamoji geba	Koreliacija
0	1			
40,54	59,46	0,59	0,70	0,56

33. Nurodykite du karinius blokus, kurie egzistavo to meto Europoje?

a b

(2 taškai)

Taškų pasiskirstymas (%)			Sunkumas	Skiriamoji geba	Koreliacija
0	1	2			
31,08	15,54	53,38	0,61	0,61	0,60



- 34.** Nurodykite tris valstybes, priklausiusias kariniam blokui, kurį nustatėte atsakydami į 33-iojo klausimo a dalį. Šias valstybes **pažymėkite** žemėlapyje skaičiais 1, 2, 3.

1 2 3

(2 taškai)

Taškų pasiskirstymas (%)			Sunkumas	Skiriamoji geba	Koreliacija
0	1	2			
44,26	11,15	44,59	0,50	0,74	0,63

- 35.** Nurodykite tris valstybes, priklausiusias kariniam blokui, kurį nustatėte atsakydami į 33-iojo klausimo b dalį. Šias valstybes **pažymėkite** žemėlapyje skaičiais 4, 5, 6.

4 5 6

(2 taškai)

Taškų pasiskirstymas (%)			Sunkumas	Skiriamoji geba	Koreliacija
0	1	2			
47,64	13,18	39,19	0,46	0,69	0,61

- 36.** Paaiškinkite, kuo skyrėsi valstybių, priklausiusių kariniams blokams, kuriuos nurodėte atsakydami į 33-įjį klausimą, politinis valdymas ir ekonominė santvarka.

Politinis valdymas

Ekonominė santvarka

(2 taškai)

Taškų pasiskirstymas (%)			Sunkumas	Skiriamoji geba	Koreliacija
0	1	2			
60,81	19,93	19,26	0,29	0,65	0,67

- 37.** Paaiškinkite, kodėl žemėlapyje nepažymėta Lietuvos valstybė.

(1 taškas)

Taškų pasiskirstymas (%)		Sunkumas	Skiriamoji geba	Koreliacija
0	1			
22,64	77,36	0,77	0,57	0,55

- 38.** Kurio iš karinių blokų šiuo metu nebėra? Paaiškinkite, kodėl jis suiro.

(1 taškas)

Taškų pasiskirstymas (%)		Sunkumas	Skiriamoji geba	Koreliacija
0	1			
64,86	35,14	0,35	0,72	0,62