



Projektas „Standartizuotų mokinių pasiekimų  
vertinimo ir įsivertinimo įrankių bendrojo  
lavavimo mokykloms kūrimas, II etapas“

2013



ŠVIETIMO  
IR MOKSLO  
MINISTERIJA



NACIONALINIS  
EGZAMINŲ  
CENTRAS

Vardas, Pavardė

\_\_\_\_\_

\_\_\_\_\_

Klasė \_\_\_\_\_

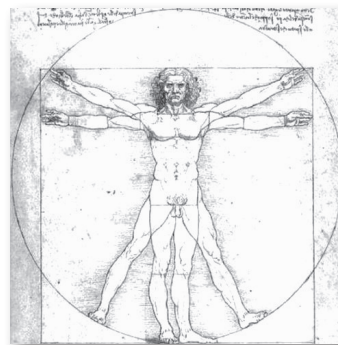
STANDARTIZUOTAS TESTAS

# ISTORIJA

8 KLASĖ

1 Kuriai asmenybei tinka šis apibūdinimas?

*Buvo puikus menininkas, architektas, išradėjas, muzikantas, domėjosi visatos kilme, nubraižė tūkstančius inžinerinių mechaninių brėžinių, nutapė garsųjį paveikslą „Mona Liza“.*



- (A) Erazmas Roterdamietis.
- (B) Leonardas da Vinčis.
- (C) Mikelandželas Buonaročis.
- (D) Nikolo Makiavelis.

2 Kaip vadinama šventa musulmonų knyga?

- (A) Biblija.
- (B) Kodeksas.
- (C) Koranas.
- (D) Šventas raštas.

3 Didžiųjų geografinių atradimų metu keliautojams teko ilgai plaukti per vandenynus. Kurį iš vandenynų perplaukė visi trys keliautojai: K. Kolumbas, F. Magelanas, V. da Gama?

- (A) Arkties.
- (B) Atlanto.
- (C) Indijos.
- (D) Ramųjį.

4 Ką M. Liuteris pavadino pačiu „nekrikščioniškiausiu bizniu“?

- (A) Bažnyčių statybą.
- (B) Indulgencijų pardavinėjimą.
- (C) Knygų spausdinimą.
- (D) Universitetų steigimą.

5 Kuri visuomenės grupė viduramžiais buvo labiausiai išsilavinusi?

- (A) Bajorai.
- (B) Miestiečiai.
- (C) Valstiečiai.
- (D) Vienuoliai.

6 Kam valdant Vilnius tapo LDK sostine?

- (A) Gediminui.
- (B) Jogailai.
- (C) Mindaugui.
- (D) Vytautui.

7 Kurios iš dabartinių valstybių teritorija įėjo į LDK sudėtį XV a.?

- (A) Čekijos.
- (B) Estijos.
- (C) Latvijos.
- (D) Ukrainos.

8 Kurioje eilutėje pateikta teisinga įvykių seka?

- 1 Išleista pirmoji lietuviška knyga.
- 2 Įvyko Žalgirio mūšis.
- 3 Mindaugas vainikuotas karaliumi.
- 4 Pasirašyta Krėvos sutartis.

- (A) 4, 2, 3, 1.
- (B) 1, 3, 2, 4.
- (C) 2, 4, 1, 3.
- (D) 3, 4, 2, 1.

9 Pateiktame aprašyme atpažink keliautoją.

*Portugalas, tarnavęs Ispanijai, buvo pirmasis žinomas europietis keliautojas, įplaukęs į nežinomus vandenis ir pavadinęs juos Ramiuoju vandenynu.*

Kuris iš keliautojų apibūdintas aprašyme?

- (A) Vasko da Gama.
- (B) Kristupas Kolumbas.
- (C) Ferdinandas Magelanas.
- (D) Amerigas Vespučis.

**10** Kurioje eilutėje **visos** minimos sąvokos yra susijusios su reformacijos judėjimu?

- (A) Eretikas, indulgencija, jėzuitai.
- (B) Inkvizicija, islamas, kontrreformacija.
- (C) Katalikas, krikščionybė, pagonybė.
- (D) Musulmonai, popiežius, protestantizmas.

**11** Kas **nėra** būdinga viduramžių laikotarpiui?


- (A) Natūrinis ūkis.
- (B) Pagonybės plitimas.
- (C) Popiežiaus galių augimas.
- (D) Valstybių tarpusavio karai.

**12** Poetas Justinas Marcinkevičius rašė:


*...Mažvydo žygdarbis nepranokstamas. Galime tarti, kad jis išgelbėjo mūsų kalbą. Mažvydas suteikė mums balsą amžinybėje, prakalbindamas mūsų širdis taip intymiai, šiltai ir betarpiškai: broliai ir seserys, imkiat mani ir skaitykiat.*

Apie kokį istorinį įvykį rašė poetas Justinas Marcinkevičius?

**13** Naudodamasis pateiktomis iliustracijomis, pabaik pildyti lentelę.



Mečetė	
	Katalikai



**14** Parašyk, kelinto amžiaus pabaigoje prasidėjo Kryžiaus žygiai į Artimuosius Rytus.

\_\_\_\_\_



**15** Kuria jūra reikėjo plaukti senovės romėnams, kad iš Romos jie patektų į Konstantinopolį?

---

●

**16** Įvardink vieną žinomą jūreivystės technikos išradimą, palengvinusį keliavimą jūromis XV-XVI a.

*Išradimas* \_\_\_\_\_

●

**17** Remdamasis lentelėje pateiktais faktais, atsakyk į klausimą.

- *Vakarų Romos imperija žlugo 476 m.*
- *Rytų Romos imperija (Bizantija) žlugo 1453 m.*

Kiek amžių skiria šių imperijų žlugimą?

---

●

**18** Įvardink vieną iš įvykių, su kuriuo siejama Naujųjų laikų pradžia?

---

●

**19** Perskaityk teiginį. Mintį pratęsk, daugtaškių vietoje įrašydamas pasirinktą tinkamą žodį ir savo pasirinkimą argumentuodamas.

*Bizantijos vienuoliai iš Kinijos pargabeno šilkverpius.*

Tai turėjo \_\_\_\_\_ reikšmę, nes \_\_\_\_\_  
(politinę ar ekonominę)

---

●

**20** Ar LDK kunigaikštis Gediminas galėjo susitikti su Karoliu Didžiuoju? Savo atsakymą paaiškink.

---



---

●

**21** Į žemiau pateiktus klausimus atsakyk „taip“ arba „ne“, savo pasirinkimą paaiškink.

**Ar galėjo Kristupas Kolumbas...**

**21.1** ...išplaukdamas į kelionę pasiimti šeimos nuotrauką?

---



---

●

**21.2** ...išplaukdamas į kelionę pasiskiepyti nuo maro?

---



---

●

**21.3** ...išplaukdamas į kelionę pasiimti spausdintą Bibliją?

---



---

●

**21.4** ...plaukti karavelės tipo laivu?

---



---

●

**22** Remdamasis šaltiniais A ir B, atlik toliau pateiktas užduotis.

**ŠALTINIS A**



*Johanas Gutenbergas*

**ŠALTINIS B**



**22.1** Kaip šaltinyje B pavaizduotas išradimas siejasi su asmenybe, pavaizduota šaltinyje A?

---



---

●

**22.2** Kokią reikšmę turėjo šis išradimas?

---



---

●

**23** Remdamasis šaltiniais A ir B, atlik toliau pateiktas užduotis.

**ŠALTINIS A**  
(Iliustracija)



**ŠALTINIS B**  
(Iš istorijos vadovėlio)

*Galilėjo Galilėjus palaikė Koperniko idėjas, vienas pirmųjų tyrinėjo beribę kosminę erdvę, 1610 m. atrado keturis Jupiterio palydovus.*

**23.1** Remdamasis šaltiniais A ir B, įvardink mokslininką ir jo naudotą prietaisą.

*Mokslininkas* \_\_\_\_\_

*Prietaisas* \_\_\_\_\_

● ●

**23.2** Kelinto amžiaus įvykiai pateikti šaltiniuose?

---

●

**23.3** Paaiškink, kokią reikšmę turėjo prietaiso, pavaizduoto šaltinyje A, išradimas.

---



---

●

**23.4** Remdamasis šaltiniais A, B ir savo žiniomis, paaiškink, kas sieja G.Galilėjų su M. Koperniku.

---



---

●

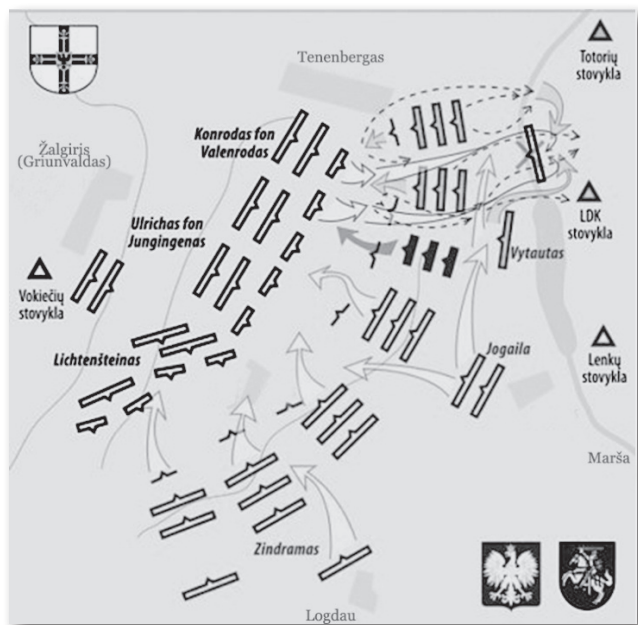
24 Remdamasis šaltiniais A ir B, atsakyk į klausimus.

ŠALTINIS A

2010 m. minėjome svarbios karinės pergalės 600 metų sukaktį. Ji buvo pasiekta bendromis LDK ir Lenkijos karalystės pastangomis. Šią sukaktį paminėti buvo išleista proginė moneta.



ŠALTINIS B



24.1 Kokiam istoriniam įvykiui paminėti skirta šaltinyje A pavaizduota moneta?

Įvykis \_\_\_\_\_

24.2 Kaip šaltinis B papildė šaltinį A?

\_\_\_\_\_  
 \_\_\_\_\_

24.3 Įvardink istorinę asmenybę ir šios asmenybės nuopelną, susijusius su šaltinyje B pavaizduotu įvykiu.

Asmenybė \_\_\_\_\_

Nuopelnas \_\_\_\_\_

\_\_\_\_\_



**25** Remdamasis šaltiniais A ir B, atlik toliau pateiktas užduotis.

### ŠALTINIS A

*Romėnų istorikas K. Tacitas 98 metais apie aisčius (baltus) rašė: aisčiai „...garbina dievų motiną...Retai vartoja geležis... Javus ir kitokius vaisius augina ištvermingiau negu tingūs germanai...ieško naudos ir jūroje...krante renka gintarą...“*

### ŠALTINIS B

(Iš Kvedlinburgo analų)

*1009 m. šventas Brunonas, <...> arkivyskupas ir vienuolis, antrais savo atsivertimo metais Rusijos ir Lietuvos (Lituae) pasienyje, pagonių trenktas į galvą, su 18 saviškių vasario 23 d. nukeliavo į dangų.*

**25.1** Kuo šaltinis A reikšmingas Lietuvos istorijai?

---

●

**25.2** Ką iš šaltinio A sužinome apie aisčių religiją ir verslus?

---



---

●

**25.3** Kuo šaltinis B reikšmingas Lietuvos istorijai?

---

●

**25.4** Remdamasis šaltiniu B, nurodyk **dvi** to meto religijas.

---

●

Tęsinys kitame puslapyje. ➡

**26** Remdamasis šaltiniais A ir B, atlik toliau pateiktas užduotis.

### ŠALTINIS A

(Iš B. Bojetu romano „Filijos nėra namie“)

Šitie žmonės apskritai negyvena, tik leidžia laiką nuo gimimo iki mirties, savo rankų darbą, paslaugas kažkam skiria, tik, žinoma, ne sau.

### ŠALTINIS B

(Iš istorijos vadovėlio)

Senjorų žemę dirbo priklausomi valstiečiai <...> Laisvieji valstiečiai prarasdavo asmeninę laisvę, dėl bado ar kitokiomis aplinkybėmis pasiduodami senjoro globai. Valstiečiai vidutiniškai 3 dienas turėdavo dirbti dvaro žemę. Mokėdavo už naudojimąsi žeme, malūnu ir kt.

### ŠALTINIS C

(Iliustracija „Vergai senovės Atėnuose“)



**26.1** Šaltiniuose A, B ir C pavaizduotos dvi skirtingos gyventojų grupės. Įvardink jas.

A ir C šaltiniuose \_\_\_\_\_

B šaltinyje \_\_\_\_\_

**26.2** Remdamasis šaltiniuose esančia informacija ir savo žiniomis nurodyk, kuo skiriasi vaizduojamos žmonių grupės viena nuo kitos?

1 skirtumas \_\_\_\_\_

2 skirtumas \_\_\_\_\_

**26.3** Remdamasis šaltiniu B ir savo žiniomis, nurodyk dvi aplinkybes, kaip valstiečiai tapdavo priklausomi nuo senjoro?

1. \_\_\_\_\_

2. \_\_\_\_\_

**26.4** Nurodyk vieną priežastį, kodėl šaltiniuose A ir C vaizduojamų žmonių darbas viduramžiais Europoje buvo nebenaudojamas?

---

●

**26.5** Nurodyk vieną bendrą bruožą, kuo panaši žmonių, vaizduojamų A, B ir C šaltiniuose, padėtis visuomenėje?

---

●

**26.6** Šaltinyje A aprašomi žmonės gyveno sunkiau, negu žmonės, aprašomi šaltinyje B. Paaškind, kodėl? Atsakymą pagrįsk dviem teiginiais.

1. \_\_\_\_\_

---

2. \_\_\_\_\_

---

● ●