



Mokykla _____

Klasė _____

Mokinio eil. nr. žurnale _____

berniukas mergaitė

DIAGNOSTINIS MOKYMOŠI PASIEKIMŲ VERTINIMAS



MATEMATIKA

Mokymosi programa:

	lietuvių kalbos	matematikos
individualizuota	<input type="checkbox"/>	<input type="checkbox"/>
pritaikyta	<input type="checkbox"/>	<input type="checkbox"/>

1 Apibrėžk **mažiausią** skaičių.

•

42

59

37

24

2 Apskaičiuok.

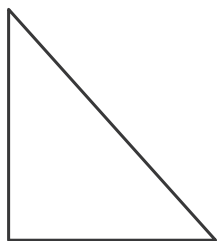
•

$20 + 70 =$

3 Įrašyk gretimus skaičius.



4 Parašyk šios figūros pavadinimą.



5 Į langelį įrašyk uždengtą skaičių.

●


$$16 + \square = 20$$

6 Kur pavaizduota atkarpa? *Apibrauk raidę.*

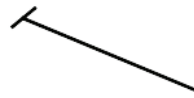
●



A



B



C




D

7 Apskaičiuok.

$$25 + 14 = \boxed{}$$

8 Į langelį įrašyk skaičių keturiasdešimt šeši.

9 Kiek sveria arbūzas?



Atsakymas: _____ kg

10 Asta nupiešė 6 , Olė – 4. Kiek iš viso  nupiešė abi mergaitės?

Atsakymas: _____

11 Kuris berniukas turi daugiau pinigų? *Apibrauk jo vardą.*



Ignas



Linus

12 Kiek valandų rodo laikrodis?

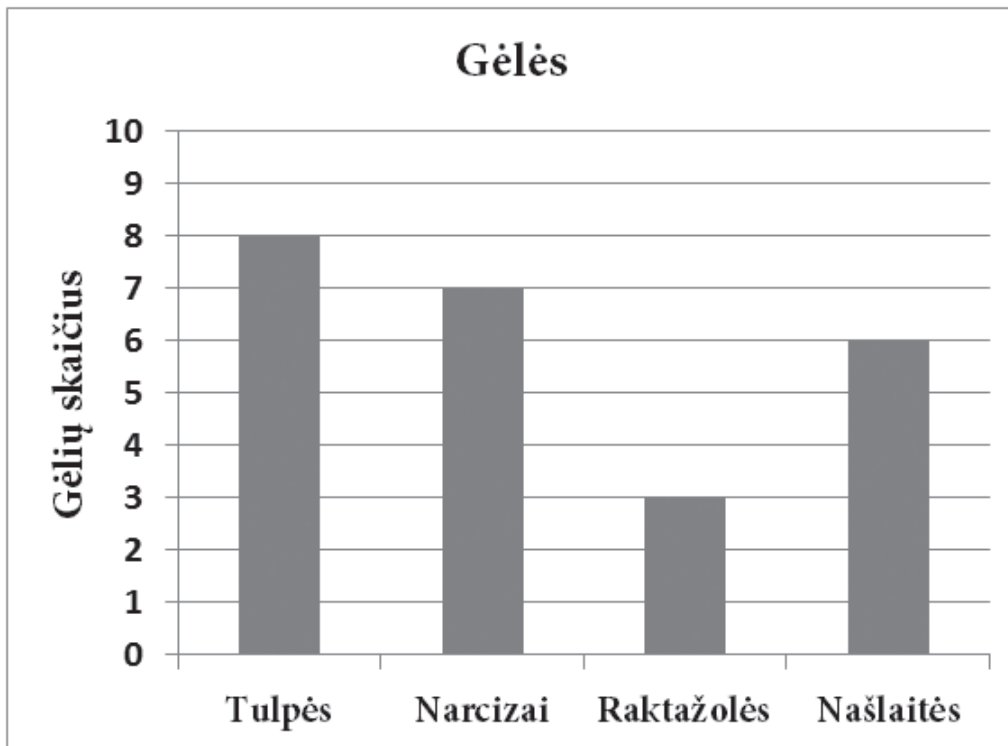


Atsakymas: _____ val.

13 Apskaičiuok.

$$24 - 8 = \boxed{}$$

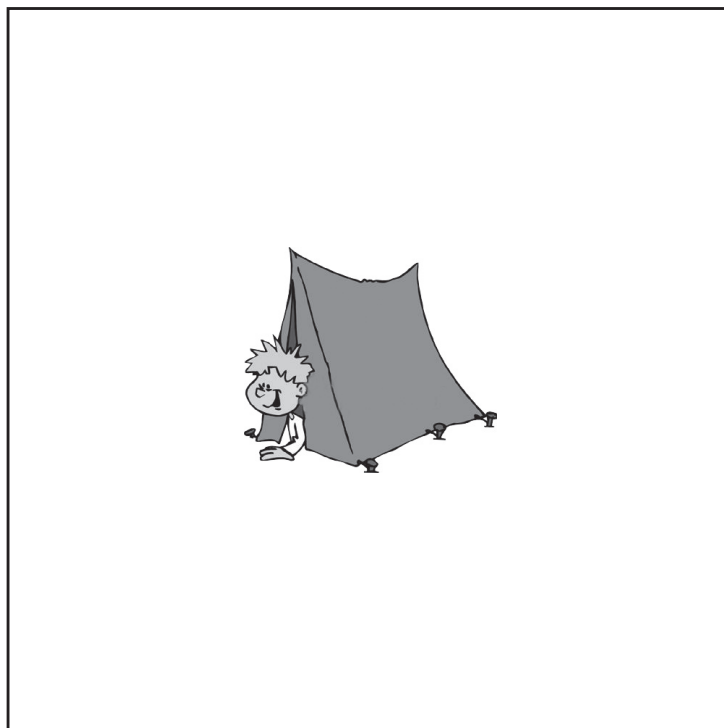
14 Diagramoje pavaizduota, kiek gėlių auga sode.



Kiek našlaičių auga sode?

Atsakymas: _____

15 Tiesiai virš palapinės nupiešk saulę.



16 Apskaičiuok.

$$7 \times 4 = \boxed{}$$

17 Apskaičiuok.

$$15 + 7 + 10 = \square$$

18 Palygink įrašydamas ženklą <, = arba >.

$$100 \text{ ct} \bigcirc 5 \text{ Eur}$$

- 19 Patricijos šeimos nariai gavo sąskaitą už pokalbius telefonu. Į lentelę įrašyk, kiek litų turi sumokėti visa šeima.

Patricija	10 Eur
Mama Neringa	22 Eur
Tėtis Stasys	25 Eur
Iš viso sumokėti:	

- 20 Apskaičiuok.

$$10 - 4 \times 2 = \boxed{}$$

21 Luka turi persokti per šokdynę 20 kartų. 15 kartų jau persoko. Kiek kartų jai dar liko persokti per šokdynę?

•

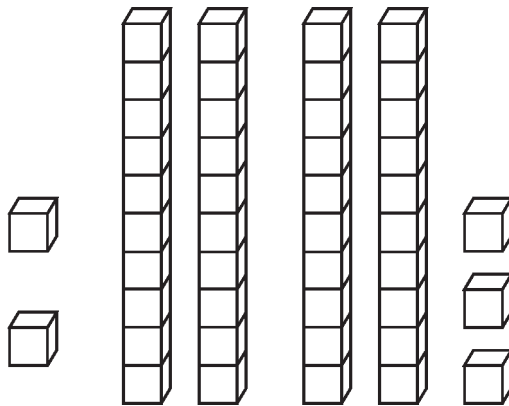
Atsakymas: _____

22 Surašyk skaičius 13, 31, 33, 30 nuo mažiausio iki didžiausio.

•

23 Kiek kubelių pavaizduota?

•



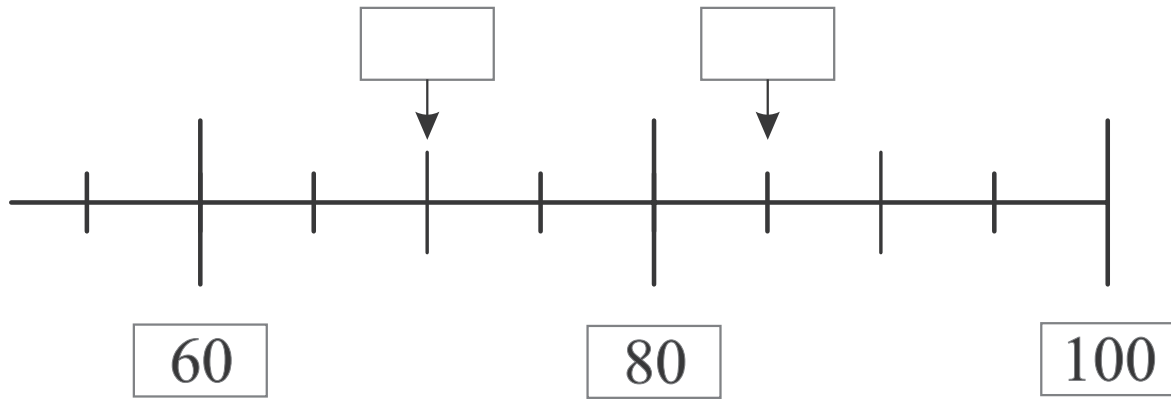
Atsakymas: _____

24 Nubraižyk kvadratą.

•



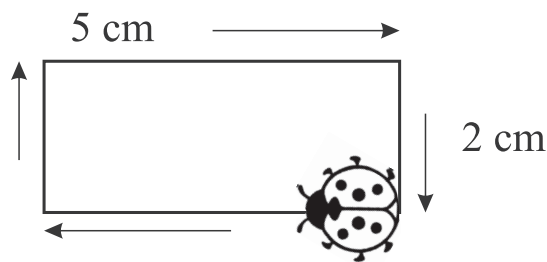
25 Į langelius įrašyk skaičius, atitinkančius skalės padalus.



•

•

26 Kokį kelią nuėjo boružėlė, kol sugrižo į tą pačią vietą?

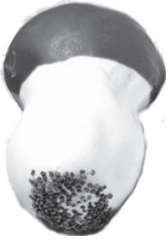


•


Atsakymas: _____ cm

27 Tomas, Jonas ir Agnė cukrainėje pirko skanėstus.


KAINOS



„Grybukas“ 40 ct.



„Medutis“ 20 ct.



„Naminis sausainis“ 15 ct.

27.1 Keliais centais vienas „Medutis“ pigesnis už „Grybuką“ ?

•

Atsakymas: _____ ct


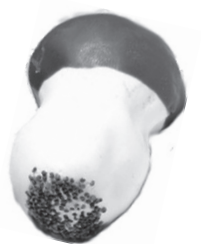
27.2 Kiek kainuoja trys „Naminiai sausainiai“ ? Parašyk veiksmą.

•

•

Atsakymas: _____ ct

27.3 Tomas nusipirko skanėstų. Kiek pinigų jis sumokėjo?



Atsakymas: _____ ct

27.4 Jonas skanėstams išleido 55 ct. Jam liko 40 ct. Kiek pinigų jis turėjo iš pradžių?

Atsakymas: _____ ct

27.5 Agnė nusipirko skanėstų už 50 ct. Į langelius įrašyk, kiek kurių skanėstų ji pirko.

„Medutis“

„Grybukas“


„Naminiai sausainiai“

28 Apibrauk, kuo matuojame laiką.

- kg
- val.
- ct
- Eur
- min.
- cm

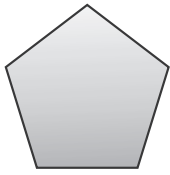


29 Keliomis katėmis vaikai augina daugiau, negu žiurkėnų?

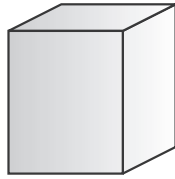


Atsakymas: _____

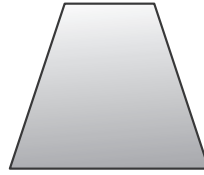
30 Kuri figūra čia netinka? *Apibrauk raidę.*



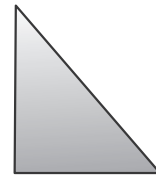
A



B



C



D

31 Parašyk, kiek bus centimetrų.

$$1\text{ m } 20\text{ cm} = \underline{\hspace{2cm}}\text{ cm}$$

32 Kuris skaičius pasislėpęs po ? Apibrauk raidę.

$$14 - \text{☀} < 3$$

A

B

C

D






9

10

11

12

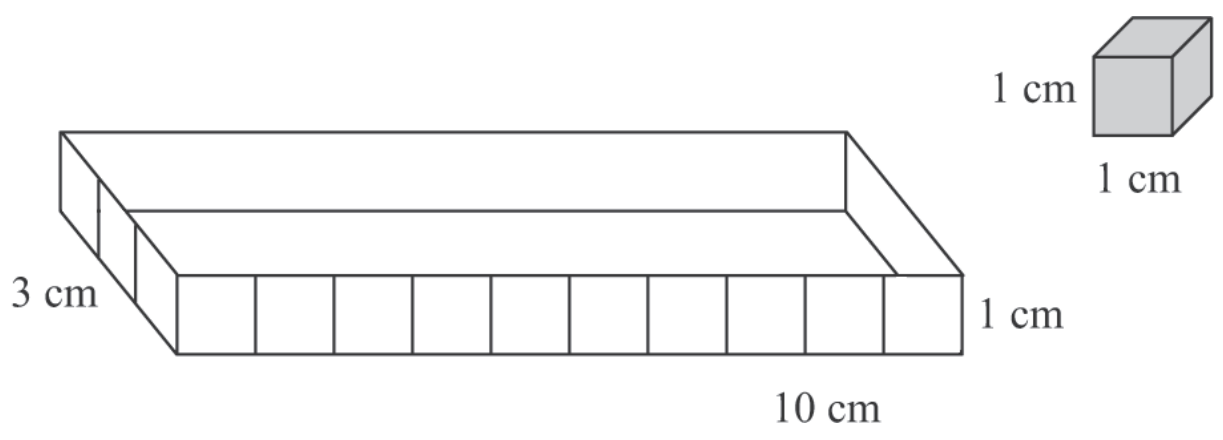
33

 ir  kainuoja 30 Eur.   kainuoja 20 Eur. Kiek kainuos  ?

Atsakymas: _____

34 Rokas turi sudėti kubelius į dėžutę. Kiek kubelių tilps?

•



Atsakymas: _____

35 Kortelėse parašyti skaitmenys. Sudaryk iš jų didžiausią dviženklį skaičių. To paties skaitmens kartoti negalima.

•


2

3

4

Atsakymas: _____

- 36 Vaidas turėjo penkias monetas po 20 ct. Nusipirko dvi bandeles už 70 ct. Ar Vaidui užteks pinigų nusipirkti sasiuvinį už 35 ct? Užrašyk sprendimą.



Atsakymas: _____

IŠSAKYK SAVO NUOMONĘ APIE ATLIKTAS UŽDUOTIS

Pabrauk, kas tinka.

Ar užduotys tau patiko?



Taip



Ne

Ar užteko laiko?



Taip



Ne

Ar buvo lengva viską atlikti?



Taip



Ne

