

# 2016



ŠVIETIMO  
IR MOKSLO  
MINISTERIJA



NACIONALINIS  
EGZAMINŲ  
CENTRAS

Vardas, Pavardė

\_\_\_\_\_

Klasė \_\_\_\_\_

Mokinio kodas

<input type="text"/>	<input type="text"/>	<input type="text"/>	<input type="text"/>	<input type="text"/>	<input type="text"/>	<input type="text"/>	<input type="text"/>
----------------------	----------------------	----------------------	----------------------	----------------------	----------------------	----------------------	----------------------

## DIAGNOSTINIS MOKYMO SI PASIEKIMŲ VERTINIMAS



# MATEMATIKA



1 Kuris skaičius yra tarp 26 ir 28?

•

26

28

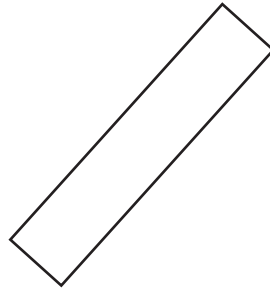
2 Parašyk skaičių, 4 vienetais mažesnį už 18.

•

*Atsakymas:* \_\_\_\_\_

3 Kuri figūra pavaizduota? *Apibrauk raidę.*

- Ⓐ Trikampis
- Ⓑ Apskritimas
- Ⓒ Stačiakampis
- Ⓓ Kvadratas



4 Domas turėjo 8 . 2 atidavė sėsei. Kiek liko Domui?

*Atsakymas:* \_\_\_\_\_

- 5 Rasa pripūtė 3 balionus, o jos tėtis 2 balionais daugiau. Kiek balionų pripūtė tėtis?


*Atsakymas:* \_\_\_\_\_

- 6 Apskaičiuok.

$$70 - 40 = \boxed{\phantom{00}}$$

7 Nubraižyk trikampį.

•



8 Apskaičiuok.

•

$22 + 8 =$

9 Parašyk, kiek yra dešimčių ir vienetų.

•



Dešimtys



Vienetai



--	--

10 Apskaičiuok.

•

$$35 - 12 = \boxed{\phantom{00}}$$

11 Apskaičiuok.

$$\begin{array}{r} 24 \\ + 32 \\ \hline \end{array}$$

12 Parašyk veiksmą, kuris pavaizduotas šiuo piešiniu.






13 Viename rinkinyje yra 6 puodeliai. Kiek puodelių yra 3 rinkiniuose?



Atsakymas: \_\_\_\_\_

14 Ką pamatuosi šiuo prietaisu? *Apibrauk raidę.*



Masę

Ilgį

Temperatūrą

Laiką

A

B

C

D

15

Kuri nelygybė teisinga. *Apibrauk raidę.*

$6 < 5$

A

$4 > 6$

B

$8 > 9$

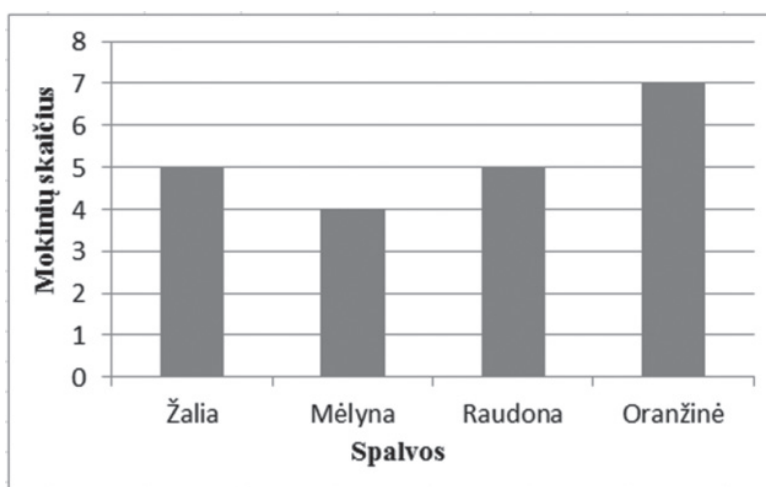
C

$3 < 5$

D

16

Pirmokai skaičiavo, kokias spalvas labiausiai mėgsta. Gautus duomenis pavaizdavo stulpeline diagrama.



16.1

Kokias spalvas mėgsta vienodas skaičius vaikų?

*Atsakymas:* \_\_\_\_\_

16.2

Naudodamasis diagramos duomenimis baik pildyti lentelę.

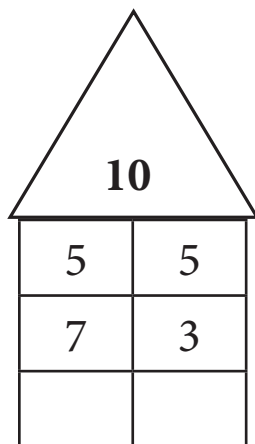
Spalva	Žalia	Mėlyna	Raudona	Oranžinė
Mokinių skaičius	5		5	7

17 Kiek žmonių stovi visose trijose eilėse?



Atsakymas: \_\_\_\_\_

18 Įrašyk du skaičius, kuriuos sudėjęs gausi skaičių 10.



19 Apskaičiuok.

$$6 \times 2 = \square$$

•  
□

20 Kiek kilogramų sveria abi pintinės obuolių?

•  
□



5 kg



4 kg

Atsakymas: \_\_\_\_\_ kg

21 Keliais kilogramais Fija lengvesnė už Dina?

•



Fija – 3 kg



Dina – 35 kg


Atsakymas: \_\_\_\_\_ kg

22 Į langelį įrašyk ženklą , , , arba , kad lygybė būtų teisinga.

•

18  3 = 15

23 Pavaizduok termometre 10 laipsnių šilumos.

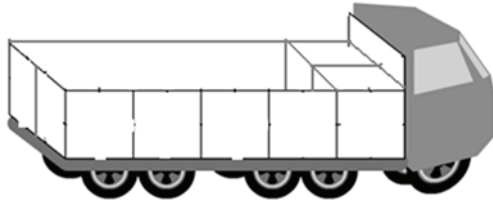


24 Skaičiai surašyti tam tikra tvarka. Įrašyk trūkstamą skaičių.

9, 12, 15, 18, ....., 24, 27.

25 Kiek dėžių trūksta, kad mašinos priekaba būtų pilna?

●



Atsakymas: \_\_\_\_\_

26 Kuri nelygybė teisinga? *Apibrauk raidę.*

●

$9 + 3 > 12$

A

$8 - 3 > 12$

B

$9 + 5 > 12$

C


$7 - 5 > 12$

D

27 Koku veiksmu patikrinsi, ar teisingai apskaičiuotas veiksmas?

$8 - 2 = 6$   $\longrightarrow$

28 Nustatyk, kuris šeimos narys aukštesnis už dukrą, bet žemesnis už tėtį.  
*Apibrauk raidę.*





29 Apibrauk du skaičius, kuriuose skaitmuo 4 reiškia vienetus?

40

34


94

43

30 Sesė su broliu skaičiavo namo langus. Sesė parašė:





$$2 + 2 + 2 = 6$$

Brolis užrašė daugybos veiksmu. Kokį veiksmą užrašė brolis?



Atsakymas: \_\_\_\_\_

31 Varlytė nupiešta langelyje B1.

4				
3				
2				
1				
	A	B	C	D

Kuriame langelyje yra drugelis?

Atsakymas: \_\_\_\_\_

32 Į langelį įrašyk uždengtą skaičių.

$$17 - \square = 12$$


33 Surašyk skaičius 14, 41, 44, 40 nuo didžiausio iki mažiausio.

•

\_\_\_\_\_

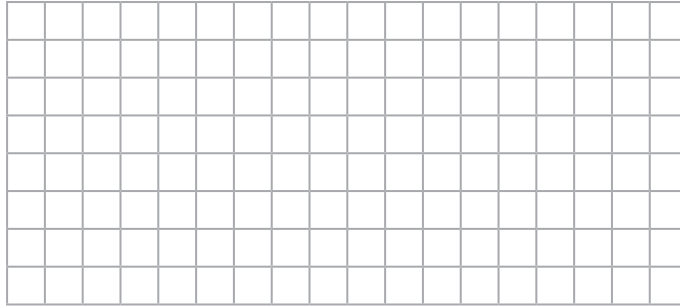
34 Nupiešk, kaip turėtų atrodyti paskutinė figūra.

•




- 35 Močiutė trijose lysvėse pasodino po 10 braškių daigų, o ketvirtoje lysvėje – 5 braškių daigus. Kiek braškių daigų pasodino iš viso?

*Parašyk sprendimą.*



*Atsakymas:* \_\_\_\_\_

- 36 Nubrėšk 6 cm atkarpą.



37 Apskaičiuok.

$$\begin{array}{r} 3 \text{ m } 60 \text{ cm} \\ - 1 \text{ m } 30 \text{ cm} \\ \hline \end{array}$$

38 Petras iš vielos lankstė trikampį, kurio visos kraštinės lygios. Vienos kraštinės ilgis 10 cm. Kiek centimetrų vielos sunaudojo trikampiiui išlankstyti?

Atsakymas: \_\_\_\_\_ cm

39 Trys draugai suvalgė po 6 riešutus. Pintinėje dar liko 4 riešutai. Kokius veiksmus reikėtų atlikti, norint apskaičiuoti, kiek riešutų pintinėje buvo iš pradžių? *Apibrauk raidę.*

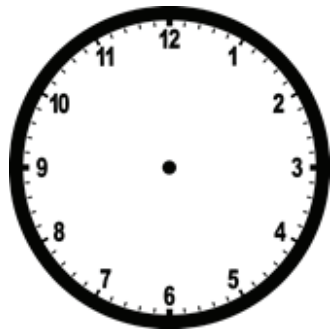
A  $3 + 6 \times 4$

B  $3 + 6 + 4$

C  $3 \times 6 + 4$

D  $3 \times 6 - 4$

40 Nupiešk rodykles, kad laikrodis rodytų 10 valandų.



# IŠSAKYK SAVO NUOMONĘ APIE ATLIKTAS UŽDUOTIS

Pabrauk, kas tinka.

Ar užduotys tau patiko?



Taip



Ne

Ar užteko laiko?



Taip



Ne

Ar buvo lengva viską atlikti?



Taip



Ne

