



Projektas „Standartizuotų mokinių pasiekimų
vertinimo ir įsivertinimo įrankių bendrojo
lavavimo mokykloms kūrimas, II etapas“

2015



ŠVIETIMO
IR MOKSLO
MINISTERIJA



NACIONALINIS
EGZAMINŲ
CENTRAS

Vardas, Pavardė

Klasė _____

Mokinio kodas

<input type="text"/>	<input type="text"/>	<input type="text"/>	<input type="text"/>	<input type="text"/>	<input type="text"/>	<input type="text"/>	<input type="text"/>
----------------------	----------------------	----------------------	----------------------	----------------------	----------------------	----------------------	----------------------

STANDARTIZUOTAS TESTAS


PASAULIO PAŽINIMAS

4 KLASĖ

1 Kuris iš šių daiktų yra sukurtas žmogaus?



(A)



(B)



(C)

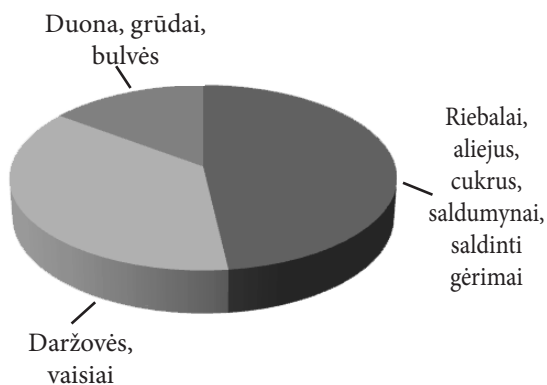


(D)

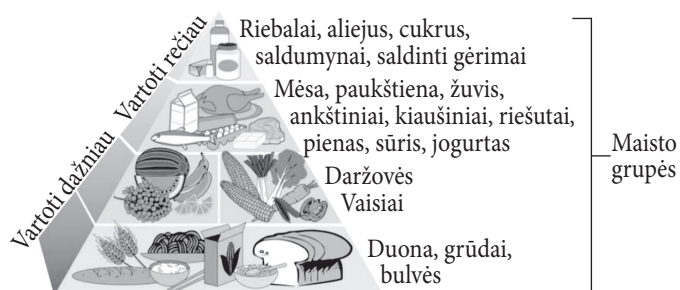
2 Kuo dažniausiai verčiasi pajūrio gyventojai?

- (A) Miškininkyste
- (B) Gyvulininkyste
- (C) Žemdirbyste
- (D) Žvejyba

3 Išnagrinėk paveikslėlyje pateiktą informaciją apie tai, kaip maitinasi Martynas.



Sveikos mitybos piramidė



3.1 Remdamasis maisto piramide parašyk, kurių maisto produktų nėra Martyno mityboje.

3.2 Remdamasis diagrama pažymėk, ar sveikai maitinasi Martynas.

Taip ₁ Ne ₂

Paiškink savo pasirinkimą.

- 4 Užrašyk medžio, kurio lapas pavaizduotas paveikslėlyje, pavadinimą.




- 5 Kurioje eilutėje **visi** išvardyti gyvūnai yra žinduoliai?

- (A) Antis, delfinas, voverė
- (B) Pelė, beždžionė, šikšnosparnis
- (C) Varna, skruzdėlė, kurmis
- (D) Gyvatė, karvė, lokys

- 6 Vis dažniau žmonės automobilį pakeičia dviračiu. Taip jie mažiau teršia orą, sutaupo pinigų. Parašyk dar vieną priežastį.


- 7 Lina atostogavo prie jūros. Išsimaudžiusi jūroje ir nudžiūvusi ji pastebėjo ant kūno baltus druskos pėdsakus. Paaiškink, kodėl jie atsirado.

- 8 Remdamasis paveikslėliu sudaryk mitybos grandinę.



→→

9 Šie gyvūnai gyvena tuose pačiuose miškuose, bet skiriasi išvaizda.



Parašyk dar vieną šių gyvūnų skirtumą.

•

10 Kam augalui reikalingas žiedas?



•

11 Sunumeruok istorinius tarpsnius nuo seniausio iki dabartinio.

- 4 Naujausieji laikai
- Viduramžiai
- Akmens amžius
- Naujieji laikai

•

12 Kurioje senovės valstybėje surengtos pirmosios olimpinės žaidynės?

•

13 Pažymėk varnele (✓) **visas** tinkamas priežastis, kodėl atsirado ir plėtojosi miestai.

- Sparčiai vystėsi prekyba.
- Mažėjo vandens telkinių.
- Didėjo gyventojų skaičius.
- Stiprėjo pramonė.
- Daugėjo saugomų teritorijų.
- Stiprėjo žemės ūkis.

Kaimas



Miestas



•

14 Parašyk šventės, kuri švenčiama liepos 6 dieną, pavadinimą.

•
□

15 Kas buvo Antanas Smetona?

- Ⓐ Lietuvos savanoris
- Ⓑ Kompozitorius
- Ⓒ Rašytojas ir poetas
- Ⓓ Lietuvos prezidentas

•
□

16 Įvardyk bendriją, apie kurią rašoma tekste.

2004 m. gegužės 1 d. Lietuva įstojo į šią bendriją. Ji turi savo vėliavą, himną, šūkį. Šiai bendrijai priklauso 28 Europos valstybės. Ji rūpinasi visos bendrijos piliečių gerove, suteikia jiems galimybę laisvai keliauti po visą bendrijos teritoriją.

•
□

17 Laiko juostoje išdėstytos Lietuvai svarbios istorinės datos.

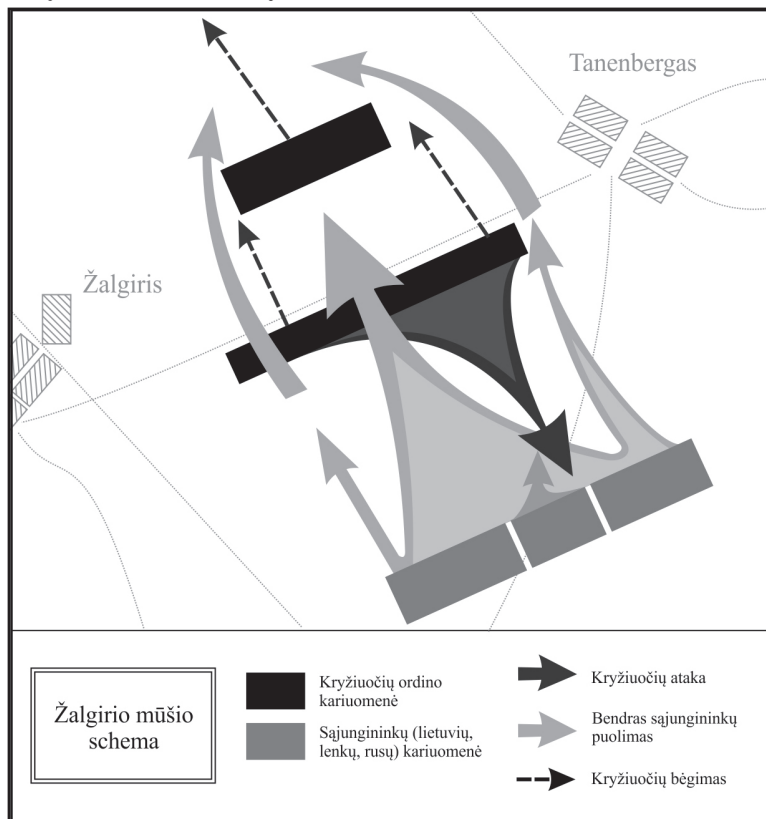
1253 m.	1323 m.	1547 m.	1918 m.
Mindaugas tapo Lietuvos karaliumi	Įkurtas Vilniaus miestas	Išleista pirmoji lietuviška knyga (M. Mažvydo „Katekizmas“)	Paskelbta Lietuvos nepriklausomybė

•
□

Remdamasis laiko juosta teiginiuose įrašyk, kas buvo **anksčiau**, o kas **vėliau**.

- Vilniaus miestas įkurtas _____, negu paskelbta Lietuvos nepriklausomybė.
- Pirmoji lietuviška knyga išleista _____, negu Mindaugas tapo Lietuvos karaliumi.

18 Atidžiai įsižiūrėk į mūšio schemą.



18.1 Kurio mūšio schema pavaizduota?

•

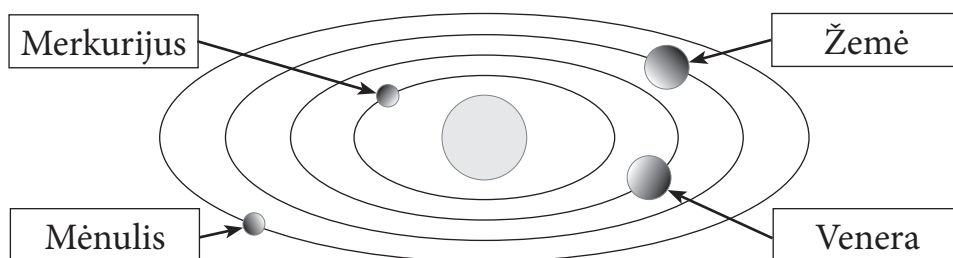
18.2 Prieš ką šiame mūšyje kovojo sąjungininkų (lietuvių, lenkų, rusų) kariuomenė?

•

18.3 Kas schemoje rodo, kad mūšį laimėjo sąjungininkų kariuomenė?

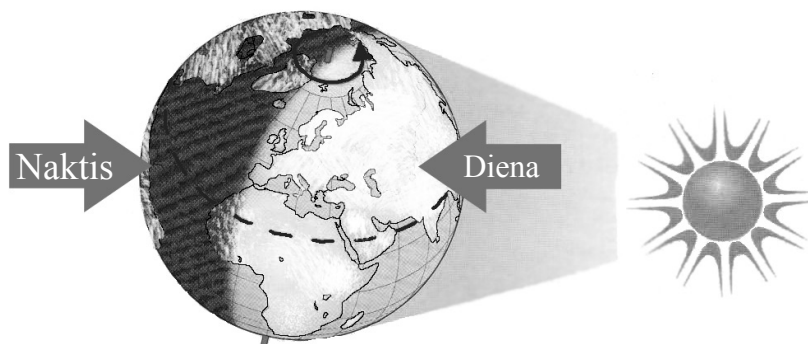
•

19 Andrius piešė Saulės sistemos schemą. Ką jis nupiešė neteisingai?



•

- 20 Paveikslėlyje pavaizduotas Žemės rutulys, apšviestas Saulės. Kai kuriose pasaulio vietose yra šviesusis paros metas, kai kuriose – tamsusis.



- 20.1 Povilo pusbrolis Jonas gyvena Šiaurės Amerikoje. Ar Jonas gali šiuo metu matyti žvaigždėtą dangų?

Taip

Ne

Paaiškink savo pasirinkimą.

- 20.2 Gaublyje ženklų (×) pažymėk, kur yra Lietuva

●

●

- 21 Gabija pagamino tirpalą: vandenyje ištirpino 3 šaukštus druskos. Tirpalą pastatė ant palangės. Kokius pokyčius ji pastebėjo po 3 savaitių?

●

- 22 Parašyk žemėlapyje kitų trijų Lietuvos kaimyninių valstybių pavadinimus.

●



23 Viltė atliko tyrimą ir parašė išvadas.





Išvados:

1. Vilniaus miesto vandentiekio vandenyje nitratų neaptikta.
2. Privataus gręžinio vandenyje išmatuotas nitratų kiekis maždaug 3 kartus viršija nustatytą normą (50 mg/l).

Koks buvo Viltės tyrimo tikslas?

•

24 Pagal pavyzdį baik pildyti lentelę.

ATLIEKOS	GAMINYS	NAUDA GAMTAI
		Mažiau sunaudojama naftos
		_____

•

25 Įsiziūrėjęs į paveikslėlį parašyk, kieno energija naudojama gaminant elektros energiją.



•

26 Mokykloje ėmė sirgti vaikai. Parašyk du būdus, kaip turėtų saugotis nesusirgę vaikai.

1. _____
2. _____

•

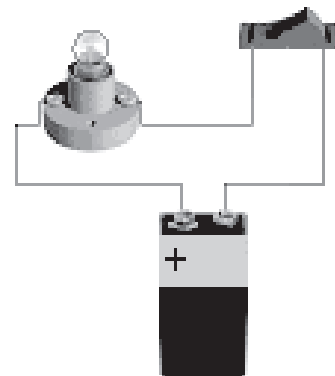
- 27 Perskaityk etiketėse pateikiamą informaciją. Nubrėždamas rodykles suskirstyk etiketes į dvi grupes.



Iš dirbtinių medžiagų

Iš natūralių medžiagų

- 28 Aldona sujungė elektros grandinę. Nuvesk rodyklę, kur yra srovės šaltinis.



Srovės šaltinis

- 29 Kuri medžiaga pasikeičia **negrįžtamai**?

- (A) Stiklas → stiklainis
- (B) Geležis → pasaga
- (C) Ledas → vanduo
- (D) Popierius → pelenai

- 30 Parašyk medžiagos, kuriai būdingos šios savybės, pavadinimą.

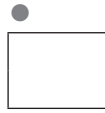
- Drėgnas būna minkštas ir tąsus.
- Išdžiūvęs ir išdegtas tampa kietas.
- Beveik nepraleidžia vandens.

Medžiaga: _____

31 Kurių valstybių krantus skalauja Baltijos jūra? Baik pildyti valstybių sąrašą.

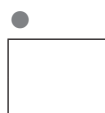


1. Estija
2. Latvija
3. Lietuva
4. Rusija
5. Lenkija
6. Vokietija
7. Danija
8. _____
9. _____




32 Senovės jūrininkai kelionės kryptį nustatydamo pagal žvaigždes. Toks būdas netiko dienomis ar debesuotomis naktimis, todėl buvo pavojinga pernelyg nutolti nuo krantų.


Prieš tūkstantį metų kinai išrado prietaisą, kuris ir dabar padeda keliauti. Kaip vadinamas šis prietaisas?



33 Vienodose dėžėse yra po vieną tokio paties dydžio **geležinį, medinį ir putplasčio** rutulį. Kiekviena dėžė buvo pasverta. Parašyk, kurioje dėžėje yra kuris rutulys.



A dėžė sveria 100 g.



B dėžė sveria 1 kg.

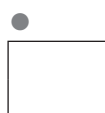


C dėžė sveria 15 kg

A dėžėje yra _____ rutulys.

B dėžėje yra _____ rutulys.

C dėžėje yra _____ rutulys.



P
4