



Projektas „Standartizuotų mokinių pasiekimų
vertinimo ir įsivertinimo įrankių bendrojo
lavavimo mokykloms kūrimas, II etapas“

2015



ŠVIETIMO
IR MOKSLO
MINISTERIJA



NACIONALINIS
EGZAMINŲ
CENTRAS

Имя, Фамилия

Класс _____

Код ученика

<input type="text"/>	<input type="text"/>	<input type="text"/>	<input type="text"/>	<input type="text"/>	<input type="text"/>	<input type="text"/>	<input type="text"/>
----------------------	----------------------	----------------------	----------------------	----------------------	----------------------	----------------------	----------------------

STANDARTIZUOTAS TESTAS

ОКРУЖАЮЩИЙ МИР

4 КЛАСС

1 Который из этих объектов создан человеком?



(A)



(B)



(C)



(D)

2 Чем чаще всего промышляют жители взморья?

- (A) Лесоводство
- (B) Животноводство
- (C) Земледелие
- (D) Рыболовство

3 Рассмотрни представленную на рисунке информацию о том, как питается Дима.



3.1 Основываясь на пирамиде здорового питания напиши, каких продуктов питания нет в питании Димы.

3.2 Основываясь на диаграмме отметь, является ли питание Димы здоровым.

Да ₁ Нет ₂

Объясни свой выбор.

4 Напиши название дерева, чей лист изображен на рисунке



●

5 В которой строчке все названные животные являются млекопитающими?

- Ⓐ Утка, дельфин, белка
- Ⓑ Мышь, обезьяна, летучая мышь
- Ⓒ Ворона, муравей, крот
- Ⓓ Змея, корова, медведь

●


6 Люди все чаще меняют автомобиль на велосипед. Так они меньше загрязняют воздух, экономят деньги. Напиши еще одну причину.

●

7 Лена отдыхала на взморье. Когда она обсохла после купания в море, то заметила на коже белые следы соли. Объясни, почему они появились.

●


8 Основываясь на рисунке, составь пищевую цепочку.



●

→→

9 Эти животные живут в тех же самых лесах, но отличаются по внешности.



Напиши еще одно различие этих животных.

10 Для чего растению нужен цветок



11 Пронумеруй исторические периоды от старейшего до современного.

- 4 Новейшее время
- Средние века
- Каменный век
- Новое время

12 В какой стране были проведены первые олимпийские игры?

13 Отметь (✓) галочкой **все** подходящие причины, почему появились и развивались города.

- Быстро развивалась торговля
- Становилось меньше водоемов
- Становилось больше жителей
- Развивалась промышленность
- Становилось больше охраняемых территорий
- Развивалось сельское хозяйство

Деревня



Город



14 Напиши название праздника, который отмечается 6 июля.

●
□

15 Кем был Антанас Смятона?

- Ⓐ Литовский доброволец
- Ⓑ Композитор
- Ⓒ Писатель и поэт
- Ⓓ Президент Литвы

●
□

16 Назови сообщество, о котором говорится в тексте:

1 мая 2004 г. Литва вступила в это сообщество. Оно имеет свой флаг, гимн, лозунг. Этому сообществу принадлежат 28 государств Европы. Оно заботится о благополучии граждан всего сообщества, предоставляет им возможность свободно передвигаться по всей территории сообщества.

●
□

17 Важные для Литвы исторические даты расположены на ленте времени.

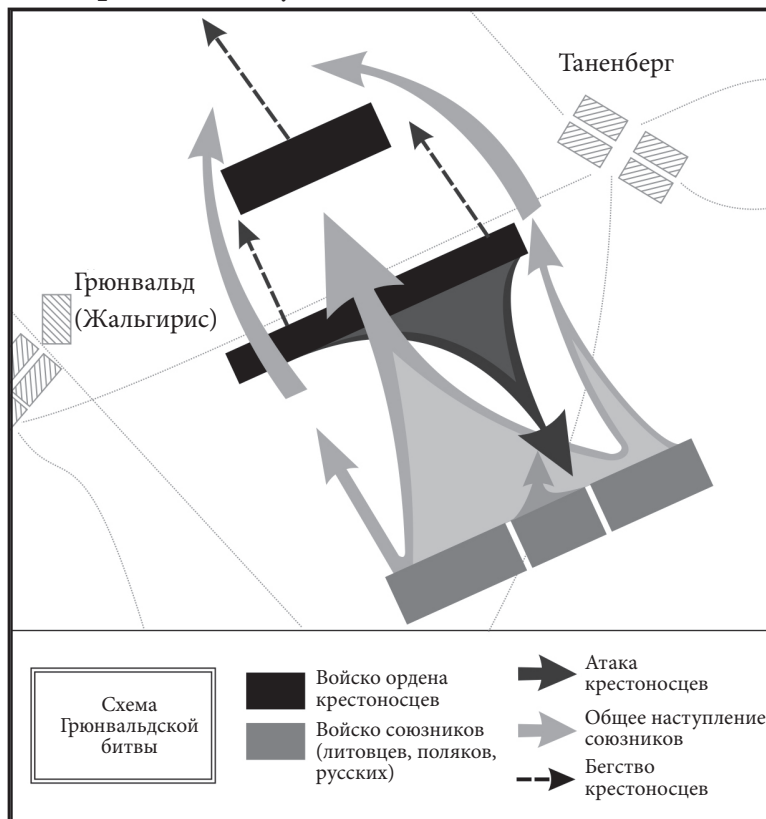
1253 г.	1323 г.	1547 г.	1918 г.
Миндаугас стал королем Литвы	Основан город Вильнюс	Издана первая литовская книга ("Катехизм" М. Мажвидаса)	Провозглашена независимость Литвы

●
□

Основываясь на утверждениях из ленты времени напиши, что произошло **раньше**, а что **позже**.

- Город Вильнюс основан _____, чем провозглашена независимость Литвы.
- Первая литовская книга издана _____, чем Миндаугас стал королем Литвы.

18 Внимательно всмотрись в схему битвы.

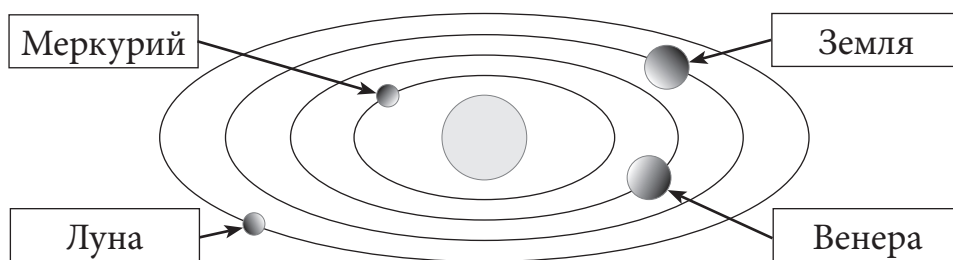


18.1 Схема какой битвы изображена?

18.2 Против кого в этой битве боролось войско союзников (литовцев, поляков, русских)?

18.3 Что на схеме показывает, что в битве победило войско союзников?

19 Андрей рисовал схему Солнечной системы. Что он нарисовал неправильно?



- 20** На рисунке изображен Земной шар, освещенный Солнцем. В некоторых частях света светлое время суток, в некоторых – темное.



- 20.1** Двоюродный брат Саши Артур живет в Северной Америке. Может ли Артур в такое время увидеть звездное небо?

Да Нет

Объясни свой ответ.

- 20.2** На рисунке Земного шара знаком (×) отметь, где находится Литва.

- 21** Галя приготовила раствор: в воде растворила 3 ложки соли. Раствор поставила на окне. Какие изменения она заметила через 3 недели?

- 22** Напиши на карте названия трех других соседних с Литвой государств.







23 Вика провела исследование и написала выводы.

Выводы:

1. В водопроводной воде г. Вильнюс нитратов не обнаружено.
2. Содержание нитратов, измеренное в воде частной водяной скважины, примерно в 3 раза превышает установленную норму (50 мг/л).

Какой была цель исследования Вики?

24 Согласно примеру заполни таблицу.

ОТХОДЫ	ИЗДЕЛИЕ	ПОЛЬЗА ДЛЯ ПРИРОДЫ
		<div style="border: 1px solid black; padding: 10px; text-align: center;">Используется меньше нефти</div>
		<div style="border: 1px solid black; padding: 10px; text-align: center;"> <hr style="border: 0; border-top: 1px solid black; margin-bottom: 5px;"/> <hr style="border: 0; border-top: 1px solid black; margin-top: 5px;"/> </div>

25 Рассмотрите рисунок и напишите, какая энергия используется для производства электрической энергии.



26 В школе стали заболевать дети. Напишите два способа, как должны беречься остальные дети, чтобы не заболеть.

1. _____

2. _____

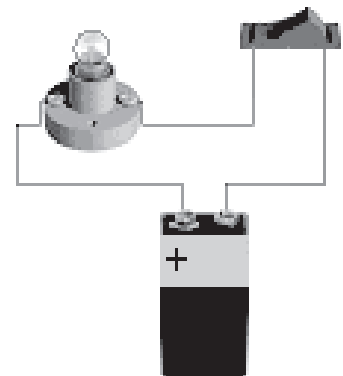
27 Прочитай представленную на этикетках информацию. Указывая нарисованными стрелками раздели этикетки на две группы.



Из искусственных материалов

Из натуральных материалов

28 Аня соединила электрическую цепь. Укажи стрелкой, где находится источник тока.



Источник тока

29 Который материал изменяется **необратимо**?

- Ⓐ Стекло → стеклянная банка
- Ⓑ Железо → подкова
- Ⓒ Лед → вода
- Ⓓ Бумага → пепел

30 Напиши название вещества, имеющего такие свойства.

- Сырое бывает мягкое и тягучее.
- Высохшее и обожженное становится твердым.
- Почти не пропускает воды.

Вещество: _____

31 Берега которых государств омывает Балтийское море? Окончательно заполни список государств.




1. Эстония
2. Латвия
3. Литва
4. Россия
5. Польша
6. Германия
7. Дания
8. _____
9. _____



32 В старину моряки устанавливали направление пути по звездам. Такой способ не подходил днем или облачными ночами, поэтому было опасно удалиться слишком далеко от берега. Тысячу лет тому назад китайцы изобрели прибор, который и теперь помогает в пути. Как называется этот прибор?

33 В одинаковых ящиках находится по одному шару, одинакового размера, из **железа, дерева и пенопласта**. Каждый ящик был взвешен. Напиши, в котором ящике находится который шар.



Ящик А весит 100 г



Ящик В весит 1 кг

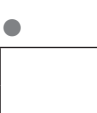


Ящик С весит 15 кг

В ящике А находится _____ шар.

В ящике В находится _____ шар.

В ящике С находится _____ шар.



OM
4