

2016



ŠVIETIMO
IR MOKSLO
MINISTERIJA



NACIONALINIS
EGZAMINŲ
CENTRAS

Имя, Фамилия

Класс _____

Ученик код

<input type="text"/>	<input type="text"/>	<input type="text"/>	<input type="text"/>	<input type="text"/>	<input type="text"/>	<input type="text"/>	<input type="text"/>
----------------------	----------------------	----------------------	----------------------	----------------------	----------------------	----------------------	----------------------

DIAGNOSTINIS MOKYMOSI PASIEKIMŲ VERTINIMAS



МАТЕМАТИКА

1 Какое число находится между 26 и 28?

•



2 Напиши число на 4 меньше числа 18.

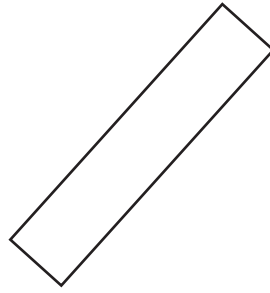
•

Ответ: _____

3

Какую фигуру изобразили? Обведи кружком букву.

- Ⓐ Треугольник
- Ⓑ Окружность
- Ⓒ Прямоугольник
- Ⓓ Квадрат



•

4

У Димы было 8 . 2 отдал сестре. Сколько осталось у Димы?

•

Ответ: _____


- 5 Рита надула 3 шарика, а её папа на 2 шарика больше. Сколько шариков надул папа?

Ответ: _____

- 6 Вычисли.

$$70 - 40 = \boxed{}$$

7 Нарисуй треугольник.



8 Вычисли.

$$22 + 8 = \square$$



9

Напиши, сколько десятков и единиц.

•



Десятки

Единицы

--	--

10

Вычисли.

•

$$35 - 12 = \boxed{}$$

13 В комплекте 6 чашек. Сколько чашек в 3 комплектах?

•



Ответ: _____

14 Что измеришь этим прибором? Обведи кружком букву.

•



Массу

Длину

Температуру

Время

А

В

С

Д

15 Какое неравенство верно? Обведи кружком букву.

$6 < 5$

$4 > 6$

$8 > 9$

$3 < 5$

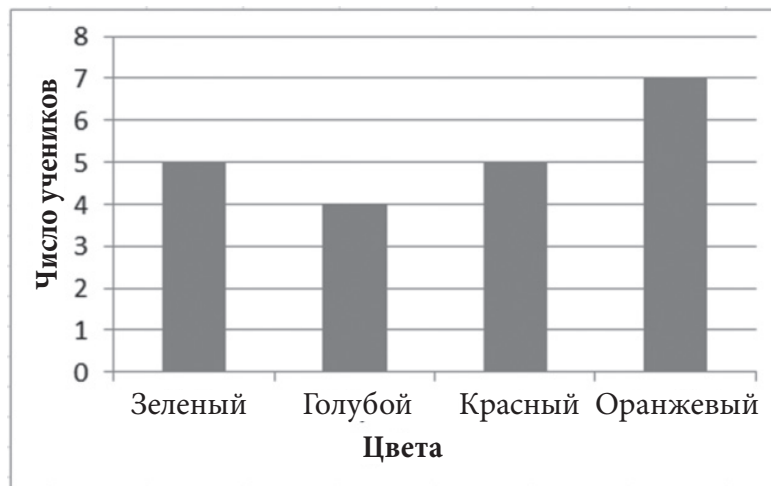
A

B

C

D

16 Первоклассники считали, какие цвета нравятся больше всего. Полученные данные они изобразили в столбчатой диаграмме.



16.1 Какие цвета нравятся одинаковому числу учеников?

Ответ: _____

16.2 На основе данных диаграммы закончи заполнять таблицу.

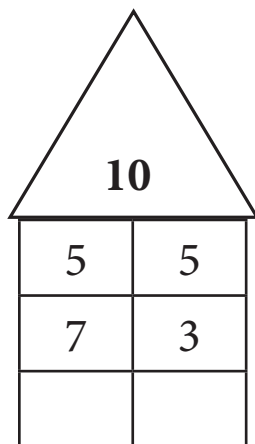
Цвет	Зеленый	Голубой	Красный	Оранжевый
Число учеников	5		5	7

17 Сколько людей стоит во всех трех очередях?



Ответ: _____

18 Впиши два числа, которые вместе дадут число 10.



19 Вычисли.

$$6 \times 2 = \square$$

20 Сколько килограммов весят обе корзины яблок?



5 кг



4 кг

Ответ: _____ кг

21

На сколько килограммов Фия легче Доны?



Фия – 3 кг



Дона – 35 кг


Ответ: _____ кг

22

В пустую клетку поставь знак $+$, $-$, \times или $:$, чтобы было верным равенство.

18 3 = 15

23 Изобрази на термометре 10 градусов тепла.

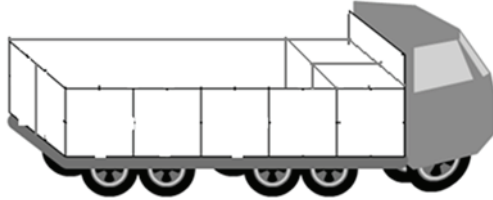


24 Числа записаны в некотором порядке. Впиши недостающее число.

9, 12, 15, 18,, 24, 27.

25

Сколько ящиков не хватает, чтобы грузовой кузов машины был полный?



Ответ: _____

26

Какое неравенство верно? Обведи кружком букву.

$9 + 3 > 12$

A

$8 - 3 > 12$

B

$9 + 5 > 12$

C

$7 - 5 > 12$

D


27

Каким действием проверишь, правильно ли выполнено действие?

$8 - 2 = 6$ \longrightarrow

28

Определи, какой член семьи выше дочери, но ниже папы. Обведи кружком букву.



29 Обведи два числа, в которых цифра 4 означает единицы?

40

34


94

43

30 Сестра с братом считали окна дома. Сестра написала:





$$2 + 2 + 2 = 6$$

Брат записал в виде умножения. Какое действие записал брат?



Ответ: _____

31 Лягушку нарисовали в клетке В1.

4				
3				
2				
1				
	A	B	C	D

В какой клетке находится бабочка?

Ответ: _____

32 Впиши в клетку закрытое число.

$$17 - \square = 12$$

33


Расставь числа 14, 41, 44, 40 по порядку от большего к меньшему.

•

34


Нарисуй, как должна выглядеть последняя фигура.

•




35 Бабушка на трех грядках посадила по 10 кустов клубники, а на четвертой грядке – 5 кустов клубники. Сколько всего кустов клубники посадила бабушка?

Напиши решение.



Ответ: _____

36 Нарисуй отрезок 6 см.



37 Вычисли.

$$\begin{array}{r} 3 \text{ м } 60 \text{ см} \\ - 1 \text{ м } 30 \text{ см} \\ \hline \end{array}$$

38 Петя из проволоки согнул треугольник, все стороны которого равны. Длина одной стороны 10 см. Сколько сантиметров проволоки Петя использовал на этот треугольник?

Ответ: _____ см

39 Три друга съели по 6 орехов. В корзинке остались 4 ореха. Какие действия нужно выполнить, чтобы вычислить, сколько орехов было в корзинке первоначально? Обведи кружком букву.

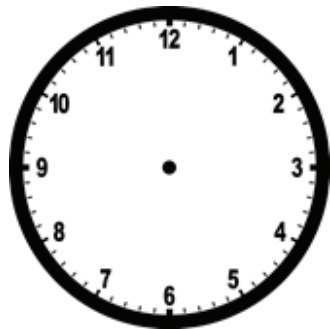
A $3 + 6 \times 4$

B $3 + 6 + 4$

C $3 \times 6 + 4$

D $3 \times 6 - 4$

40 Нарисуй стрелки так, чтобы часы показывали 10 часов.



ВЫСКАЖИ СВОЕ МНЕНИЕ О ВЫПОЛНЕННЫХ ЗАДАНИЯХ

Подчеркни, с чем согласен.
Понравилось ли Тебе задание?



Да



Нет

Хватило ли времени?



Да



Нет

Легко ли было всё выполнить?



Да



Нет

