



Projektas „Standartizuotų mokinių pasiekimų  
vertinimo ir įsivertinimo įrankių bendrojo  
lavavimo mokykloms kūrimas, II etapas“

2015



ŠVIETIMO  
IR MOKSLO  
MINISTERIJA



NACIONALINIS  
EGZAMINŲ  
CENTRAS

Vardas, Pavardė

\_\_\_\_\_

Klasė \_\_\_\_\_

Mokinio kodas

<input type="text"/>	<input type="text"/>	<input type="text"/>	<input type="text"/>	<input type="text"/>	<input type="text"/>	<input type="text"/>	<input type="text"/>
----------------------	----------------------	----------------------	----------------------	----------------------	----------------------	----------------------	----------------------

STANDARTIZUOTAS TESTAS

# SOCIALINIAI MOKSLAI

## 8 KLASĖ

**1** Kuria kalba viduramžiais buvo mokoma Europos universitetuose?

- (A) Anglų kalba
- (B) Gimtąja kalba
- (C) Lotynų kalba
- (D) Prancūzų kalba

●

**2** Kuris iš įvykių nėra priskiriamas didiesiems geografiniams atradimams?

- (A) Amerikos žemyno atradimas
- (B) Jūrų kelio į Indiją atradimas
- (C) Pirmoji kelionė aplink pasaulį
- (D) Australijos žemyno atradimas

●

**3** Kuris iš šių asmenų buvo Vytauto amžininkas?

- (A) J. Gutenbergas
- (B) Karolis Didysis
- (C) M. Liuteris
- (D) Mahometas

●

**4** Kas būdinga Vytauto Didžiojo valdymui?

- (A) Kovų su vokiečių ordinu pabaiga
- (B) Lietuvos krikštas
- (C) Valstybės susikūrimas
- (D) Kovų su vikingais pabaiga

●

**5** Kokios valstybės yra į šiaurę nuo Lietuvos?

- (A) Rusija ir Baltarusija
- (B) Graikija ir Ispanija
- (C) Latvija ir Estija
- (D) Švedija ir Suomija

●

**6** Kaip vadinama uoliena, susidariusi iš ežero ar vandens telkinio dugne nusėdusių suspaustų ir sukietėjusių medžiagų?

- (A) Vulkanine uoliena
- (B) Nuosėdine uoliena
- (C) Metamorfine uoliena
- (D) Konglomeratine uoliena

●

7 Kaip susidaro požeminiai vandenys?

- (A) Vandeniui nutekant žemės paviršiumi.
- (B) Vandeniui kaupiantis ežeruose ir pelkėse.
- (C) Vandeniui išgaravus nuo vandens telkinių paviršiaus.
- (D) Vandeniui infiltruojantis į gilesnius žemės sluoksnius.

8 Paveikslėlyje parodytas atmosferos slėgį matuojantis prietaisas.

8.1 Kaip vadinamas šis prietaisas? \_\_\_\_\_



8.2 Kurios nuotraukos orų situacija atitiktų prietaiso užfiksuotus rodmenis?



(A)



(B)



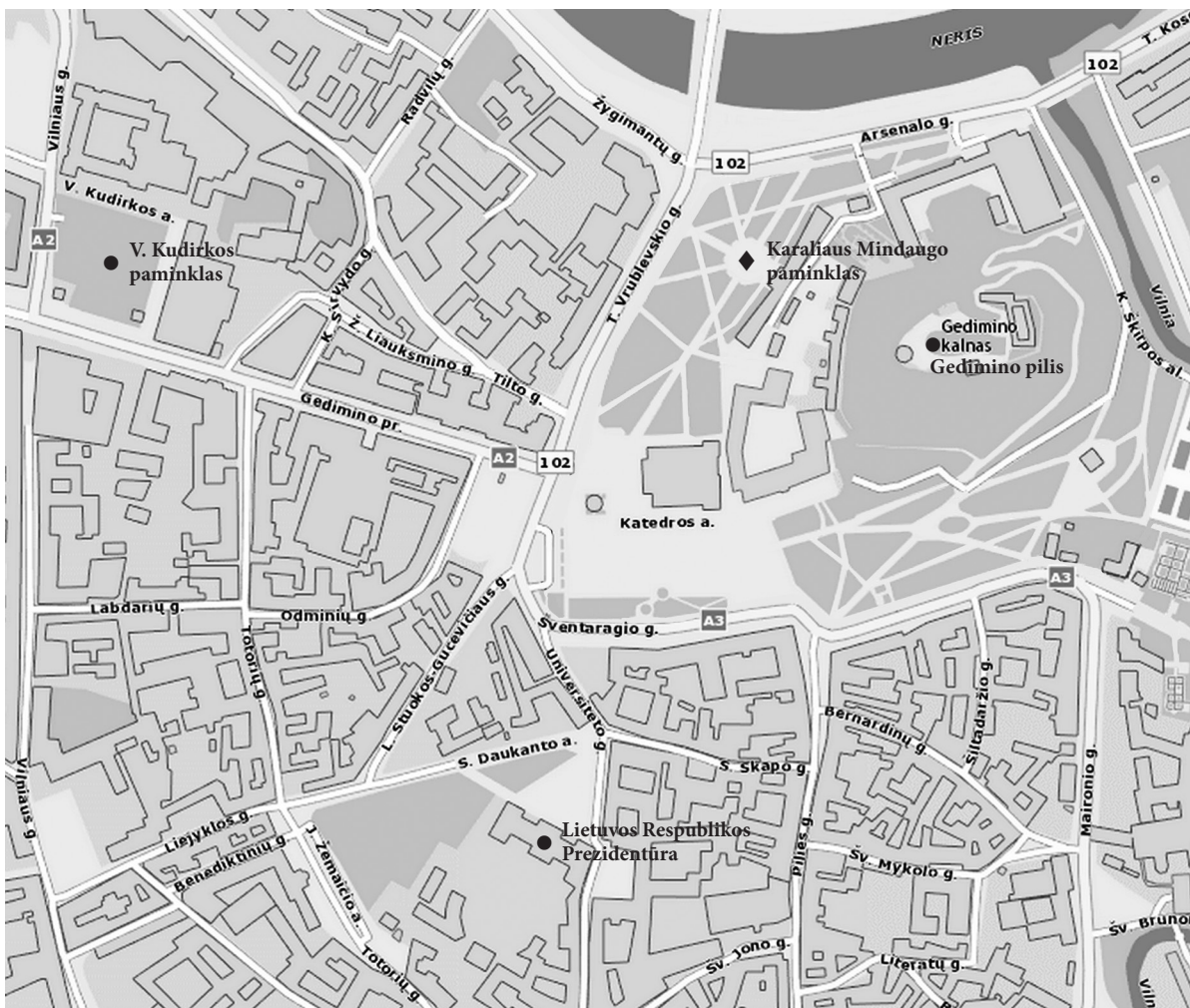
(C)



(D)

9

Remdamasis Vilniaus senamiesčio planu atlik užduotis.



9.1 Nurodyk dvi vietovės ypatybes, dėl kurių viduramžiais toje vietoje kunigaikštis Gediminas pastatė pilį.

1. \_\_\_\_\_

2. \_\_\_\_\_

9.2 Koku tikslu viduramžiais buvo statomos pilys?

\_\_\_\_\_

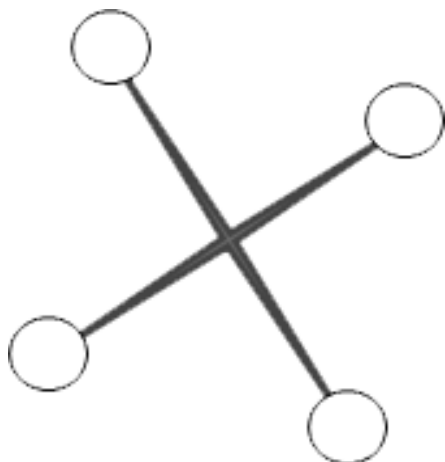
9.3 Plane ženklu (♦) pažymėtas Karaliaus Mindaugo paminklas. Nurodyk du gamtinius objektus, kurie nusakytų šio paminklo buvimo vietą.

1. \_\_\_\_\_

2. \_\_\_\_\_



- 9.4** Pagal pavaizduotą paminklo šešėlių vasaros vidudienį nustatyk pagrindines pasaulio kryptis ir pateiktoje schemeje įrašyk krypčių pavadinimų trumpinius: Š, P, R ir V.



● ●

- 9.5** Viduramžiais valstybės pripažindavo kitą valstybę, kai pritardavo jos valdovo karūnavimui. Kokią sąlygą turėjo įvykdyti Mindaugas, kad būtų karūnuotas?

---

●

- 9.6** Kodėl atidengti paminklą Karaliui Mindaugui buvo pasirinkta 2003 metais?

---

●

- 9.7** Naudodamasis planu nustatyk, kuria pasaulio kryptimi nuo šio paminklo yra V. Kudirkos paminklas.

---

●

- 9.8** Koks V. Kudirkos nuopelnas Lietuvai labiausiai žinomas?

---

●

- 9.9** Nuo V. Kudirkos paminklo iki Lietuvos Respublikos Prezidentūros galima nueiti trimis maršrutais. Dviejų maršrutų atstumai pateikti lentelėje. Apskaičiuok trečiojo maršruto ilgį metrais ir įrašyk į lentelę. Nustatyk, kuris maršrutas yra trumpiausias.

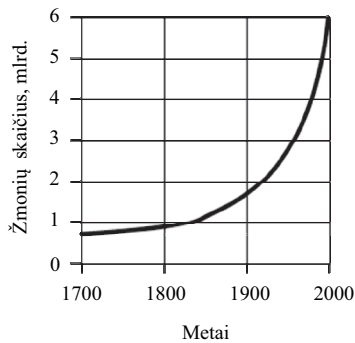
1. Gedimino pr. – T. Vrublevskio g. – Universiteto g.	720 m
2. Vilniaus g. – Liejyklos g.	920 m
3. Vilniaus g. – Labdarių g. – Totorių g. – Liejyklos g.	

● ●

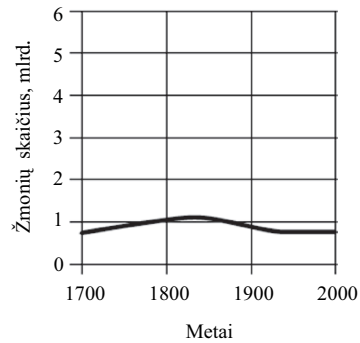
Trumpiausias maršrutas yra Nr. \_\_\_\_\_.

10

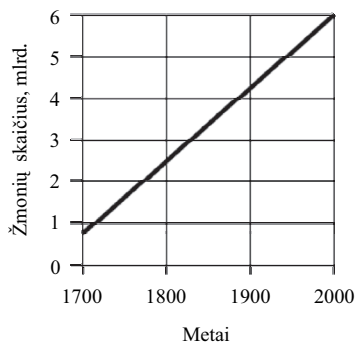
Kuriame iš pateiktų grafikų geriausiai atspindėtas žmonių skaičiaus pasaulyje kitimas per pastaruosius 300 metų?



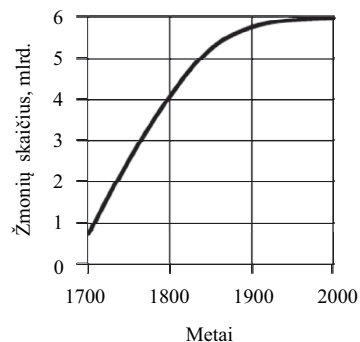
(A)



(B)



(C)



(D)

11

A šaltinis

*Lygių galimybių įstatymo paskirtis – užtikrinti, kad būtų įgyvendintos Lietuvos Respublikos Konstitucijoje įtvirtintos žmonių lygios teisės ir uždrausti diskriminaciją dėl amžiaus, negalios, rasės ar etninės priklausomybės, religijos ar įsitikinimų [...].*

*<http://www.manoteises.lt>*

B šaltinis

Šis paveikslėlis iliustruoja žinomą metaforišką posakį „Balta varna“.



Remdamas A ir B šaltiniais parašyk, ar sutinki su nuomone: „Baltos varnos“ arba žmonių įvairovė Lietuvos Respublikoje pripažįstama.

Pagrįsk savo pasirinkimą.

\_\_\_\_\_, nes \_\_\_\_\_  
(Sutinku arba Nesutinku)

12 Lietuvoje švenčiamos įvairios valstybinės šventės ar atmintinos dienos. Rodyklėmis sujunk Lietuvos valstybines šventes ir datas, kada šios šventės švenčiamos.

Lietuvos nepriklausomybės atkūrimo diena

Kovo 11 d.


Lietuvos valstybės atkūrimo diena

Liepos 6 d.

Valstybės (Lietuvos karaliaus Mindaugo karūnavimo) diena

Vasario 16 d.

13



13.1 Kokia pagrindinė iliustracijos mintis?

Demokratinėse valstybėse tikrieji savo šalies šeimininkai yra...

- (A) politikai.
- (B) piliečiai.
- (C) prezidentai.
- (D) teisėjai.

13.2 Paaiškink savo atsakymą.

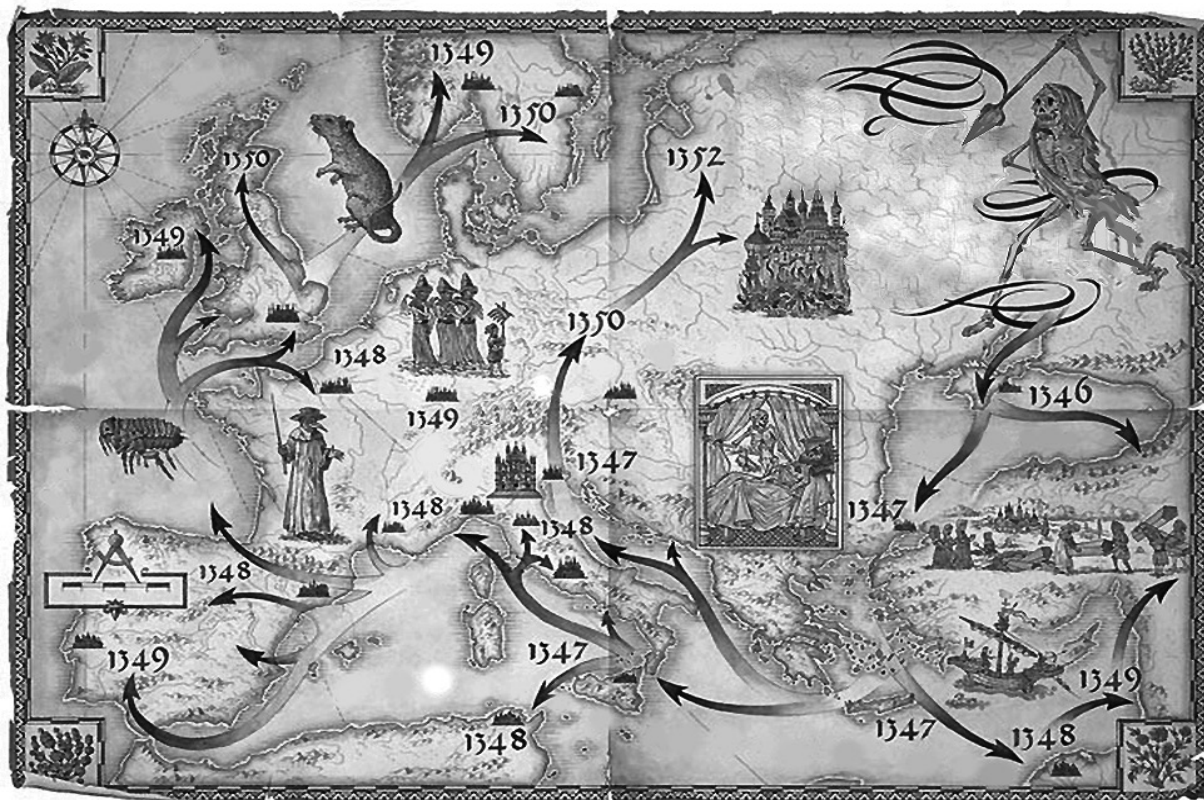
\_\_\_\_\_

14 Parašyk dviejų religijų pavadinimus, kurias sieja Jeruzalės miestas.

Pirma religija: \_\_\_\_\_

Antra religija: \_\_\_\_\_

15 Šaltinyje pavaizduota, kaip viduramžiais Europoje plito epidemija. Remdamasis šaltiniu atlik užduotis.



15.1 Parašyk viduramžiais Europoje siautusios epidemijos pavadinimą.

\_\_\_\_\_

●  
□

15.2 Kelintame amžiuje Europoje išplito ši epidemija?

\_\_\_\_\_

●  
□

15.3 Ar galime teigti, kad ši epidemija plito greitai. Paaškind savo atsakymą.

\_\_\_\_\_

●  
□

15.4 Kelintais metais ši epidemija pasiekė žmones, gyvenusius dabartinėje Lietuvos teritorijoje?

\_\_\_\_\_

●  
□

15.6 Paaškind, kodėl žemėlapyje yra nupiešta žiurkė ir blusa?

\_\_\_\_\_

●  
□

15.7 Įvardyk šios ligos padarinius tuometiniam Europos ūkiui.

\_\_\_\_\_

●  
□



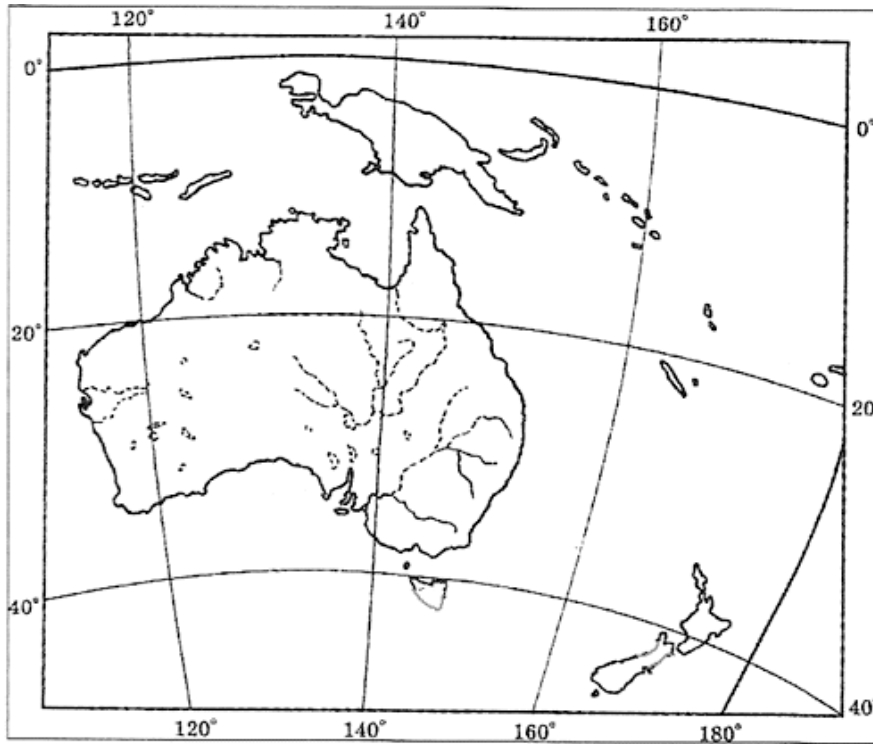
**15.8** Kodėl šiais laikais iš kitų šalių įvežamiems kroviniams taikomi griežti sanitariniai reikalavimai?

---

**16** Kuria jūra turėjo plaukti vikingai, kad užpultu kuršius?

---

**17** Remdamasis žemėlapiu atlik užduotis.

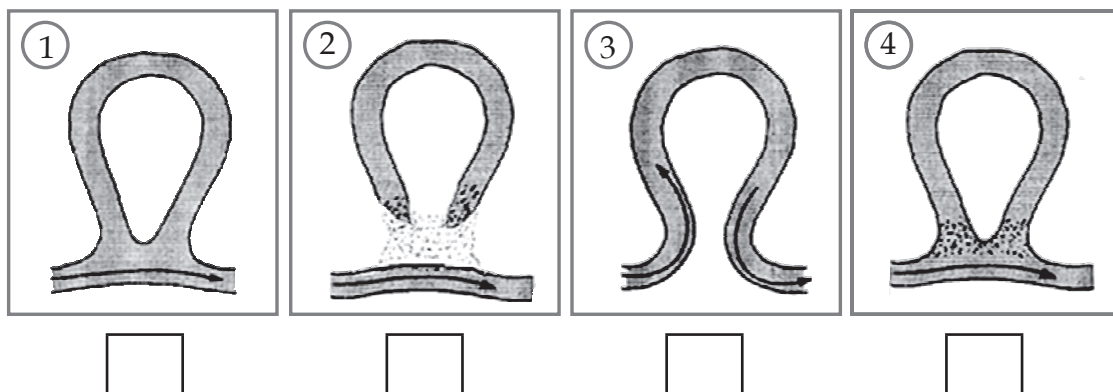


Nurodyk du Australijos gamtinius geografinės padėties bruožus.

1. \_\_\_\_\_

2. \_\_\_\_\_

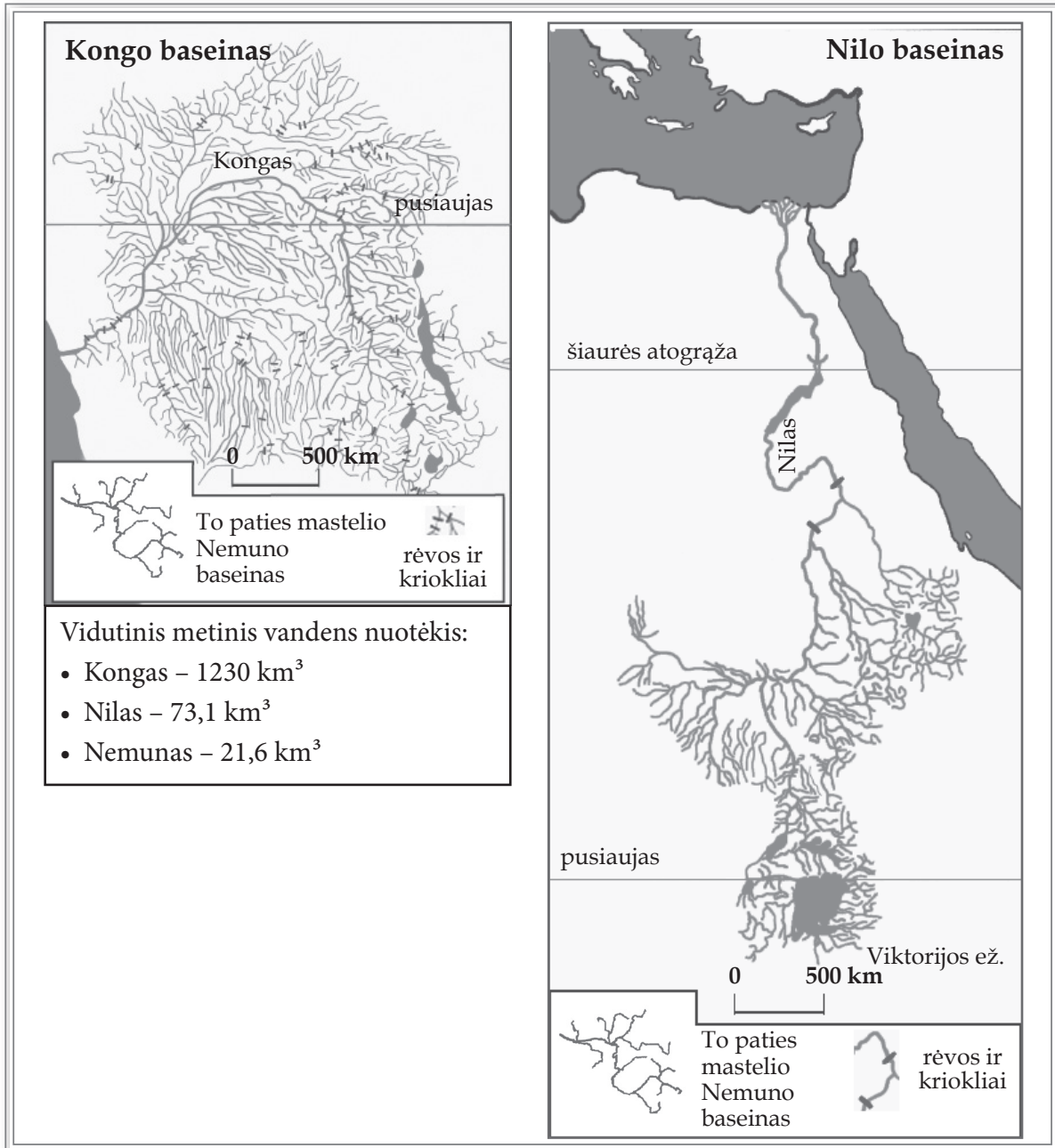
**18** Paveiksluose 1 – 4 pavaizduoti upės vagos kitimo etapai. Langeliuose įrašyk paveikslų numerius taip, kad būtų parodyta senvagės susidarymo seka.



19

Naudodamasis Kongo ir Nilo baseinų kartoschemomis (A šaltinis) atlik užduotis.

A ŠALTINIS



19.1 Nurodyk, kuo skiriasi Kongo ir Nilo baseinai.

---



---

19.2 Kodėl Kongas nuplukdo daug daugiau vandens negu Nilas?

---



---

●

●

19.3 Kuri upė nėra tinkama laivybai? Argumentuok savo atsakymą.

---

19.4 Kodėl abiejų upių baseinų kartoschemose pateiktas to paties mastelio Nemuno baseinas?

---

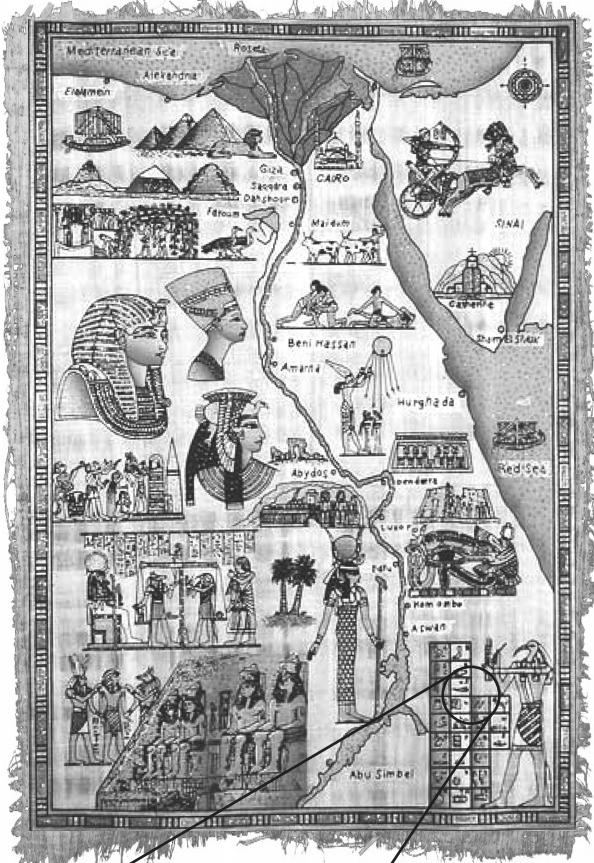
19.5 Paaškind, kodėl Nilo žemupyje plyti dykumos.

---

19.6 Parašyk vieną priežastį, kodėl senovės Egipto civilizacija įsikūrė Nilo žemupyje.

---

**B ŠALTINIS**



19.7 Kokias dar žinai senovės civilizacijas, įsikūrusias prie upių?

---




---

19.8 Populiaraus suvenyro su senovės Egipto civilizacijos simboliais ir Nilo upe pavyzdys pateiktas B šaltinyje. Šis suvenyras pagamintas iš tos pačios medžiagos, kurią naudodavo ir senovės egiptiečiai. Kokia tai medžiaga?

---

19.9 Parašyk dviejų garsių statinių, kurie vilioja turistus aplankyti Egiptą, pavadinimus.

1. \_\_\_\_\_
2. \_\_\_\_\_



19.10 Ką simbolizuoja skaičiumi 1 pažymėti senovės Egipto civilizacijos simboliai?

---

19.11 Kas bendra tarp senovės egiptiečių ir mūsų protėvių baltų religijų?

---

SM  
8