

2017



ŠVIETIMO
IR MOKSLO
MINISTERIJA



NACIONALINIS
EGZAMINŲ
CENTRAS

Vardas, Pavardė

Klasė _____


Mokinio kodas

<input type="text"/>	<input type="text"/>	<input type="text"/>	<input type="text"/>	<input type="text"/>	<input type="text"/>	<input type="text"/>	<input type="text"/>
----------------------	----------------------	----------------------	----------------------	----------------------	----------------------	----------------------	----------------------

DIAGNOSTINIS TESTAS

MATEMATIKA

2 KLASĖ



1 Kuris skaičius yra didžiausias?

15

32

94

26

Ⓐ


Ⓑ

Ⓒ

Ⓓ

•

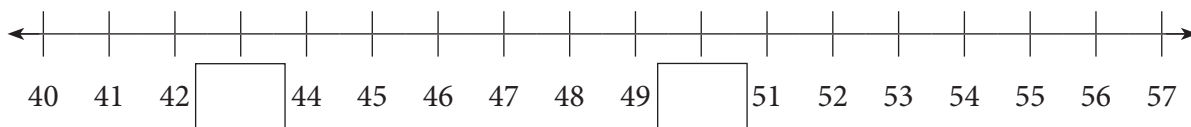
2 Suskaičiuok visus obuolius.



•

Atsakymas: _____

3 Į langelius įrašyk praleistus skaičius.




•

4 Apskaičiuok.

$30 + 60 = \square$

•

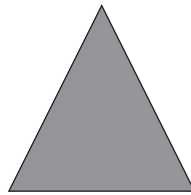
5 Kuri figūra yra skritulys?




(A)



(B)



(C)



(D)


•

6 Apskaičiuok.

$$3 \times 7 =$$

•

7 Nubraižyk keturkampį.



•

8 Kas matuojama šiuo įrankiu?



Laikas

(A)

Temperatūra

(B)

Masė

(C)

Ilgis

(D)

•


9 Mėja perskaitė 6 knygas, o Nojus – 4 knygas. Kiek knygų perskaitė abu vaikai?

•


Atsakymas: _____

10 Kuriame paveiksle paukštis pavaizduotas virš dėžės?

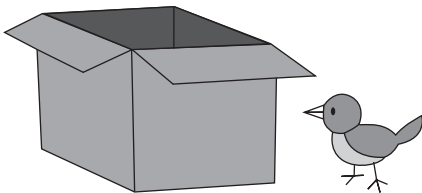
•




(A)



(B)




(C)



(D)

11 Koks skaičius yra uždengtas?

•

 - 7 = 10

Atsakymas: _____

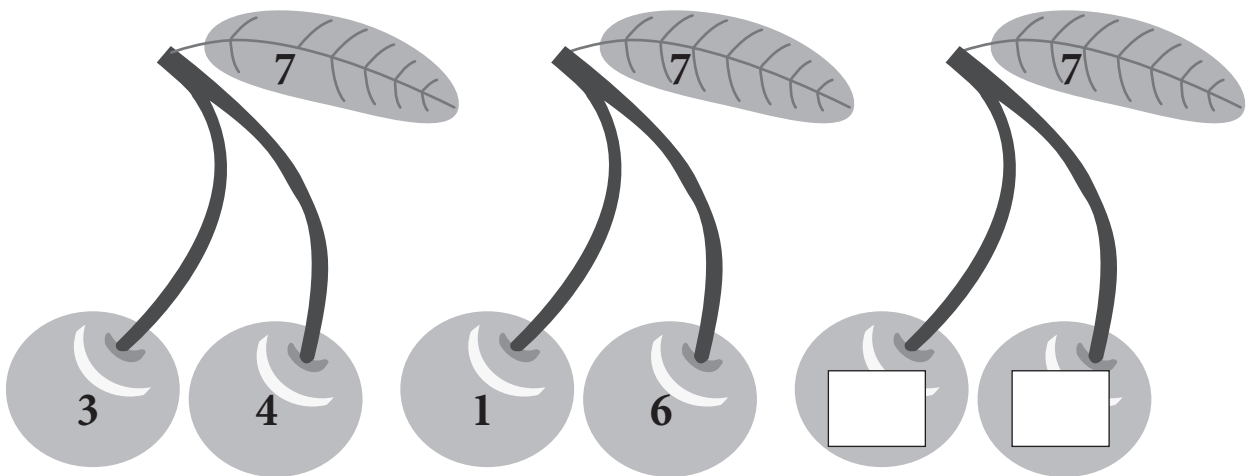
- 12 Linas kavinėje išleido 7 eurus, o Kipras – 2 eurai mažiau. Kiek pinigų išleido Kipras?

Atsakymas: _____ eurus.

- 13 Apskaičiuok.

$$56 - 32 =$$

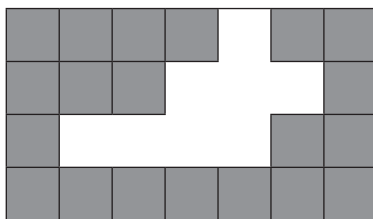
- 14 Kuriuos du skaičius sudėjęs taip pat gausi 7? Įrašyk į langelius.



- 15 Apskaičiuok.


$$15 - 6 + 3 =$$

16 Kelių kvadratėlių trūksta, kad būtų uždengtas visas stačiakampis?




Atsakymas: _____


17 Kuris laikrodis rodo 5 val.?




(A)



(B)



(C)

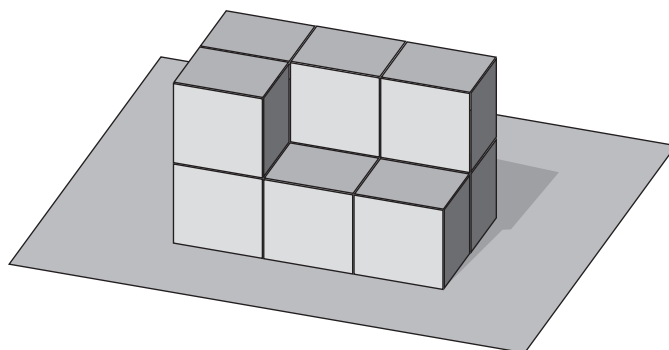


(D)

18 Elzė žaisdama ieškojo 16 pasislėpusių draugų. 5 draugus jau rado. Kiek draugų liko rasti?

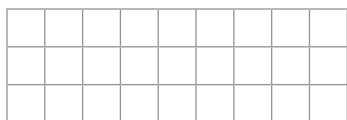

Atsakymas: _____ draugų.

19 Kiek kubelių prirėikė Kamilei Ŗiam statiniui ant stalo pastatyti?



Atsakymas: _____ kubelių.

20 ParaŖyk veiksmą, kuris pavaizduotas pieŖiniu.



21 NubrėŖk 4 cm ilgio atkarpą.



22 Viename ąsotyje telpa 2 litrai pieno. Kiek litrų pieno tilps 3 tokiuose pačiuose ąsočiuose?



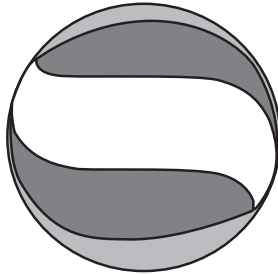
21

Atsakymas: _____ litrai.

23 Keliais euraiš futbolo kamuolys brangesnis už tinklinio kamuolį?




25 Eur



15 Eur

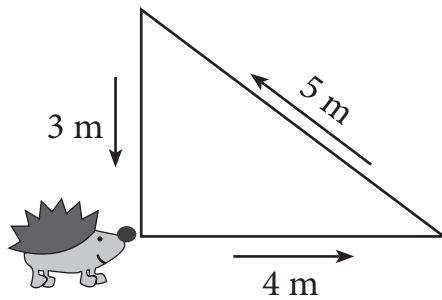
Atsakymas: _____

24 Emilija skaičiavo ledinukus ir užrašė sudėties veiksmą $2 + 2 + 2 + 2$.



Parašyk, kokių daugybos veiksmu Emilija gali suskaičiuoti ledinukus.

25 Kiek metrų nueis ežys, kol sugrįš į tą pačią vietą?



Atsakymas: _____


26 Kokį skaičių gausi 32 padidinęs 5 vienetais?

Atsakymas: _____

27 Apskaičiuok.

$$\begin{array}{r} 4 \text{ m } 20 \text{ cm} \\ + 1 \text{ m } 45 \text{ cm} \\ \hline \end{array}$$

28 Kuri nelygybė bus teisinga, į tuščią langelį įrašius duotą skaičių?



$$\square + 4 < 9$$

(A)

$$\square + 2 > 9$$

(B)

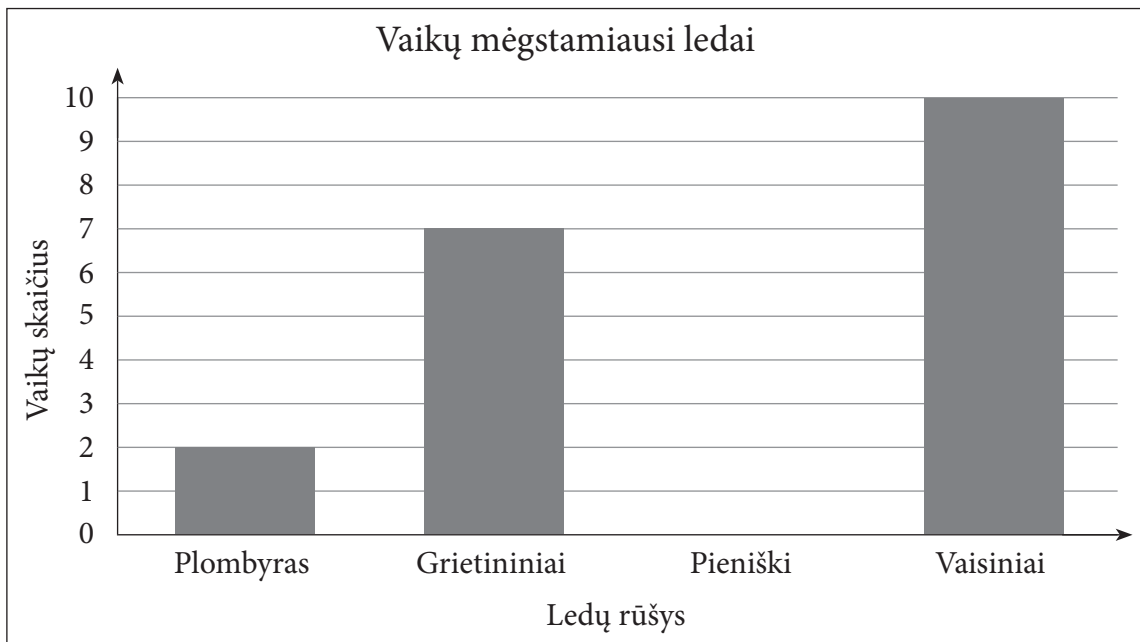
$$\square + 3 < 9$$

(C)

$$\square + 1 > 9$$

(D)

29 Klasėje vaikai skaičiavo, kuriuos ledus labiausiai mėgsta. Gautus duomenis pavaizdavo diagrama.



29.1 Pieniškus ledus mėgsta 5 vaikai. Pavaizduok diagramoje tai stulpeliu.

•

29.2 Kuriuos ledus mėgsta daugiausia vaikų?

•

Atsakymas: _____

29.3 Kiek vaikų mokosi klasėje?

•

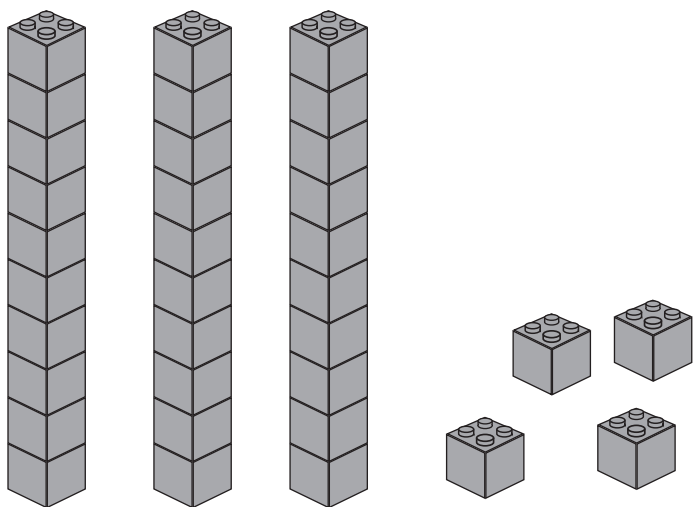
Atsakymas: _____

30 Duotam sudėties veiksmui parašyk du atimties veiksmus.

$$15 + 3 = 18$$

•

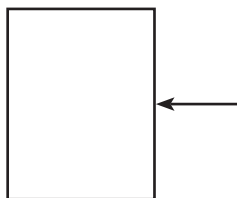
31 Parašyk, kiek yra dešimčių ir kiek vienetų.



Dešimčių: _____

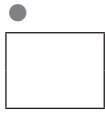
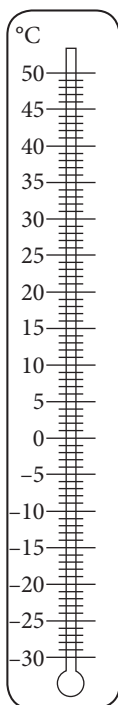
Vienetų: _____

32 Kaip vadinamas rodykle nurodytas stačiakampio elementas?



Atsakymas: _____


33 Pavaizduok termometre $-8\text{ }^{\circ}\text{C}$.




34 Kiek kainuoja flomasteriai? Užrašyk sprendimą.

..... Eur 4 Eur 6 Eur

15 Eur



Sprendimas:



Atsakymas: _____

35 Gintas sprendė uždavinį.

Miglė surinko 38 kaštonus. Iš 9 kaštonų ji pagamino vikšrą.

Sprendimas:

$$38 - 9$$

Ką apskaičiuos Gintas? *Parašyk uždavinio klausimą.*

36 Aurėja turi 25 lipdukus. Ji nori 7 draugėms išdalyti po keturis lipdukus. Ar Aurėjai užteks lipdukų?

Užteks

Neužteks

Paaiškink, kodėl taip manai. _____

37 Figūros sudėliotos tam tikra tvarka. Kurios figūros uždengtos?



(A) △○○△

(B) ○○△△

(C) ○△○○

(D) △△○△

IŠSAKYK SAVO NUOMONĘ APIE ATLIKTAS UŽDUOTIS

Pabrauk, kas tinka.

Ar užduotys tau patiko?



Taip



Ne

Ar užteko laiko?



Taip



Ne

Ar buvo lengva viską atlikti?



Taip



Ne

M 2

