

2017



ŠVIETIMO
IR MOKSLO
MINISTERIJA



NACIONALINIS
EGZAMINŲ
CENTRAS

Имя, Фамилия

Класс _____


Код ученика

<input type="text"/>	<input type="text"/>	<input type="text"/>	<input type="text"/>	<input type="text"/>	<input type="text"/>	<input type="text"/>	<input type="text"/>
----------------------	----------------------	----------------------	----------------------	----------------------	----------------------	----------------------	----------------------

ДИАГНОСТИЧЕСКИЙ ТЕСТ

МАТЕМАТИКА

2 КЛАСС



1 Укажи число, которое является наибольшим.

15

32

94

26

Ⓐ


Ⓑ

Ⓒ

Ⓓ

•

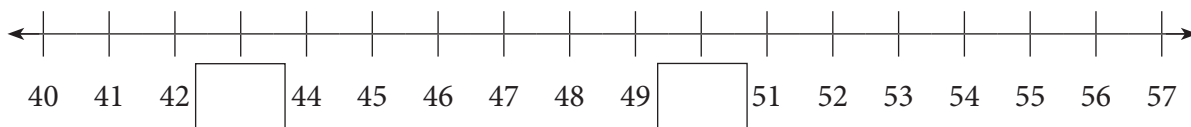
2 Сосчитай все яблоки.



Ответ: _____

•

3 Впиши в пустые клетки пропущенные числа.




•

4 Вычисли.


$30 + 60 = \square$

•


5 Какая из фигур является кругом?



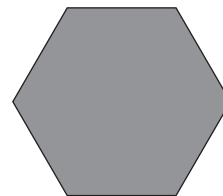
Ⓐ



Ⓑ



Ⓒ



Ⓓ


•

6 Вычисли.

$$3 \times 7 =$$

•

7 Нарисуй четырехугольник.



•

8 Что измеряют этим инструментом?



Время

Ⓐ

Температура

Ⓑ

Масса

Ⓒ

Длина

Ⓓ

•

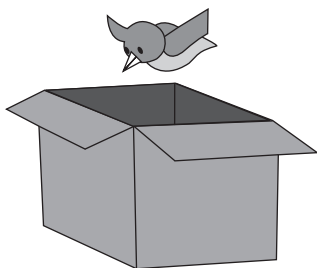
9 Вера прочитала 6 книг, а Коля – 4 книги. Сколько всего книг прочитали дети?

•


Ответ: _____

10 На каком рисунке изображена птичка над коробкой?

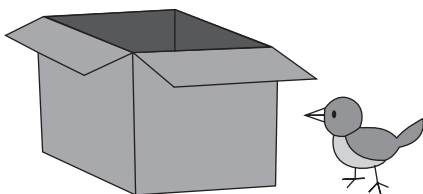
•




(A)



(B)




(C)



(D)

11 Какое число закрыто?

 - 7 = 10

•

Ответ: _____

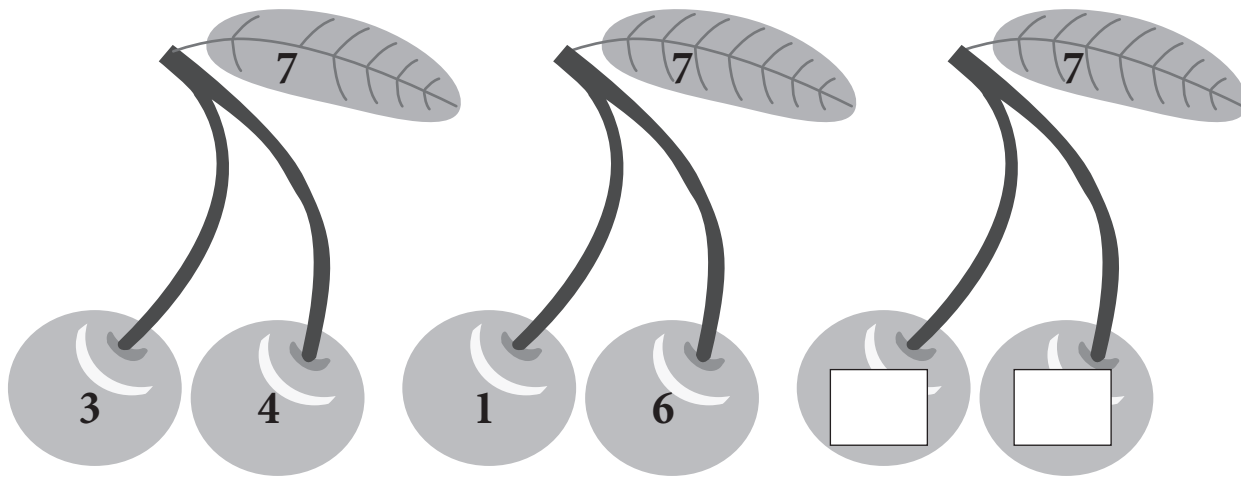
- 12 Лёша в кафе потратил 7 евро, а Костя – на 2 евро меньше. Сколько денег потратил Костя?

Ответ: _____ евро.

- 13 Вычисли.

$$56 - 32 =$$

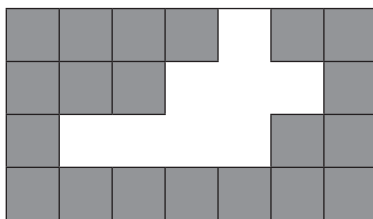
- 14 Какие два числа надо сложить, чтобы тоже получить 7? Запиши в пустые клетки.



- 15 Вычисли.


$$15 - 6 + 3 =$$

16 Сколько квадратов не хватает, чтобы заполнить весь прямоугольник?




Ответ: _____


17 Какие часы показывают 5 часов?




Ⓐ



Ⓑ



Ⓒ

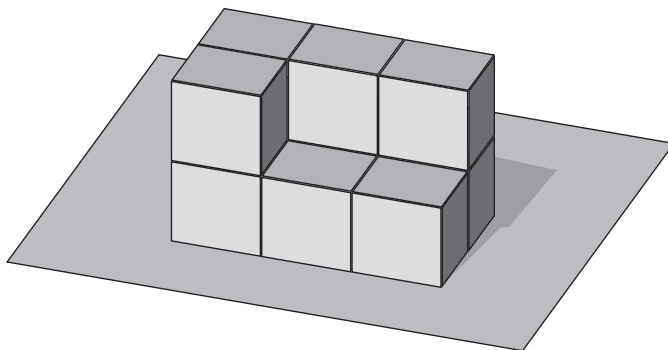


Ⓓ

18 Алла, играя в прятки, искала 16 своих друзей. 5 друзей уже нашла. Сколько друзей осталось найти?


Ответ: _____ друзей.

19 Сколько кубиков понадобилось Кате, чтобы сложить на столе эту постройку?



Ответ: _____ кубиков.

20 Запиши действие, которое изображает рисунок.



21 Нарисуй отрезок длиной 4 см.

- 22 В одном кувшине помещается 2 литра молока. Сколько литров молока поместится в 3 таких кувшинах?



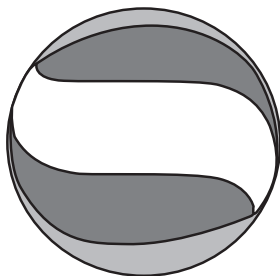
2 л

Ответ: _____ литров.

- 23 На сколько евро футбольный мяч дороже волейбольного?




25 евро



15 евро

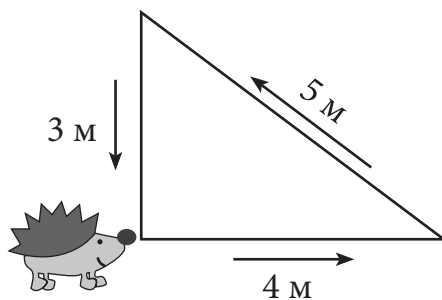
Ответ: _____

- 24 Эмилия считала леденцы и записала действие сложения $2 + 2 + 2 + 2$.



Напиши, каким действием умножения Эмилия может сосчитать эти леденцы.

- 25 Сколько метров должен преодолеть ёжик, чтобы вернуться на прежнее место?



Ответ: _____


- 26 Какое число получится, если 32 увеличить на 5 единиц?

Ответ: _____

- 27 Вычисли.

$$\begin{array}{r} 4 \text{ м } 20 \text{ см} \\ + 1 \text{ м } 45 \text{ см} \\ \hline \end{array}$$

- 28 Какое неравенство будет верным, если в пустую клетку записать данное число?



$$\square + 4 < 9$$

(A)

$$\square + 2 > 9$$

(B)

$$\square + 3 < 9$$

(C)

$$\square + 1 > 9$$

(D)

29 В классе дети считали, какое мороженое им нравится больше всего. Полученные данные изобразили на диаграмме.



29.1 Молочное мороженое любят 5 детей. Изобрази это на диаграмме, рисуя столбик.

•

29.2 Какое мороженое любит наибольшее число детей?

•

Ответ: _____

29.3 Сколько детей учатся в классе?

•

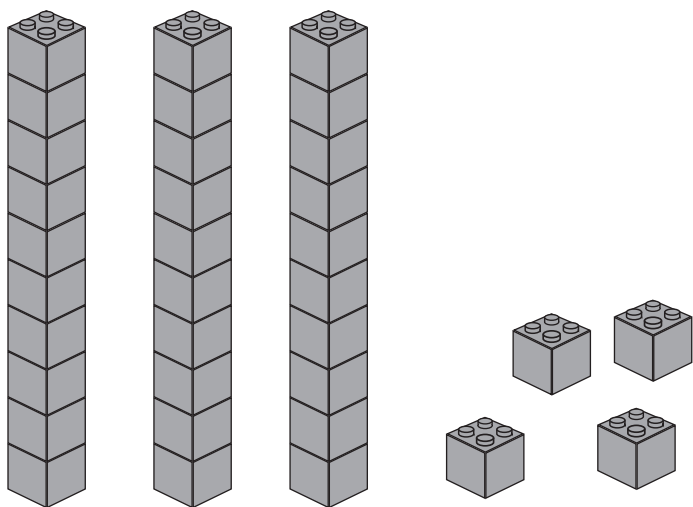
Ответ: _____

30 К данному действию сложения запиши два действия вычитания.

$$15 + 3 = 18$$

•

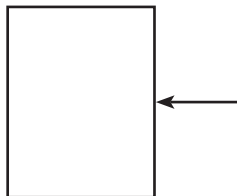
31 Напиши, сколько имеется десятков и сколько единиц.



Десятков: _____

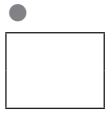
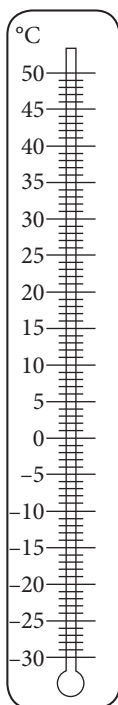
Единиц: _____

32 Как называется элемент прямоугольника, указанный стрелкой?





Ответ: _____


33 Отметь на термометре -8°C .



34 Сколько стоят фломастеры? Запиши решение.



Решение:



Ответ: _____

35 Гена решал задачу.

Мая собрала 38 каштанов. Из 9 каштанов она сделала гусеницу.

Решение:

$$38 - 9$$

Что вычислит Гена? *Напиши вопрос к задаче.*

36 У Ани было 25 наклеек. Она хочет разделить по четыре наклейки 7 подругам. Хватит ли наклеек, которые были у Ани?

Хватит

Не хватает

Объясни, почему так думаешь. _____

37 Фигуры расположены в определенном порядке. Какие фигуры закрыты?



(A) $\triangle \circ \circ \triangle$

(B) $\circ \circ \triangle \triangle$

(C) $\circ \triangle \circ \circ$

(D) $\triangle \triangle \circ \triangle$

ВЫСКАЖИ СВОЕ МНЕНИЕ О ВЫПОЛНЕННЫХ ЗАДАНИЯХ

Подчеркни, с чем согласен.

Понравились ли тебе задания?



Да



Нет

Хватило ли времени?



Да



Нет

Легко ли было их выполнить?



Да



Нет

M 2

