

1. Kam viduramžiais valstiečiai turėdavo duoti dešimtinę?

- A Amatininkams.
- B Bažnyčiai
- C Pirkliams.
- D Miestiečiams.

(1 taškas)

2. Kaip vadinama liga, kuri viduramžiais buvo išplitusi Europoje?

.....
(1 taškas)

3. Laikotarpius išdėstykite teisinga chronologine seka, langeliuose įrašydami raidę, žyminčią laikotarpį.

- A Naujieji laikai.
- B Viduramžiai.
- C Priešistorė.
- D Senovė.

--	--	--	--

(1 taškas)

4. Kuris valdovas buvo vienintelis Lietuvos karalius?

- A Gediminas.
- B Jogaila.
- C Mindaugas.
- D Vytautas.

(1 taškas)

5. Kas yra Lietuvos statutas?

- A LDK didžiojo kunigaikščio dvaras.
- B LDK didžiojo kunigaikščio testamentas.
- C LDK įstatymų rinkinys.
- D LDK teismo pareigūnas.

(1 taškas)

6. Kuris valdovas laikomas Vilniaus įkūrėju?

- A Gediminas.
- B Vytenis.
- C Mindaugas.
- D Vytautas Didysis.

(1 taškas)

7. Kuri seka yra teisinga?

- A Badmetis, pasėlių žūtis, sausra arba liūtys, ūkio nuosmukis.
- B Badmetis, ūkio nuosmukis, pasėlių žūtis, sausra arba liūtys.
- C Sausra arba liūtys, pasėlių žūtis, ūkio nuosmukis, badmetis.
- D Ūkio nuosmukis, sausra arba liūtys, badmetis, pasėlių žūtis.

(1 taškas)

8. Kurią jūrą LDK teritorija siekė Vytauto Didžiojo valdymo laikotarpiu?

- A Egėjo jūrą.
- B Juodąją jūrą.
- C Šiaurės jūrą.
- D Viduržemio jūrą.





(1 taškas)

9. Kodėl liepos 6-ąją švenčiama Lietuvos valstybės diena?

- A Buvo įkurta Lietuvos valstybė.
- B Mindaugas buvo karūnuotas Lietuvos karaliumi.
- C Pirmą kartą paminėtas Lietuvos vardas.
- D Lietuva priėmė krikštą.

(1 taškas)

10. Paveikslėliuose pateikti dviejų architektūros stilių pastatų fragmentai. Pažymėkite, kurie fragmentai atspindi gotikos, o kurie baroko laikotarpį.

Pastato fragmentas				
Gotika	<input type="checkbox"/> ₁	<input type="checkbox"/> ₁	<input type="checkbox"/> ₁	<input type="checkbox"/> ₁
Barokas	<input type="checkbox"/> ₂	<input type="checkbox"/> ₂	<input type="checkbox"/> ₂	<input type="checkbox"/> ₂

(1 taškas)

11. Kurią jūrą turėjo plaukti vikingai, kad užpultų kuršius?

.....
(1 taškas)

12. Kurių prekių didelė paklausa Europoje buvo didžiųjų geografinių atradimų priežastimi?

- A Akmens anglis ir gintaras.
- B Kailiai ir vaškas.
- C Kava ir kukurūzai.
- D Kvepalai ir prieskoniai.

(1 taškas)

13. Vilniuje pastatytas paminklas kunigaikščiui Gediminui. Parašyk, už kuriuos nuopelnus įamžintas jo atminimas.

.....

(1 taškas)



14. Kodėl viduramžių miestuose mirdavo daugiau žmonių, nei kaimuose?

.....

(1 taškas)

15. Pateiktas sąvokas sugrupuokite ir įrašykite į lentelę:

Baudžiauninkas, dantiraštis, indulgencija, polis, vasalas, vergvaldys.

Senovė	Viduramžiai
.....
.....
.....

(1 taškas)

16. Apskaičiuokite, kiek amžių skiria šiuos du įvykius: pirmąjį Lietuvos vardo paminėjimą ir Žalgirio mūšį.

.....
 (1 taškas)

17. Į žemiau pateiktus klausimus atsakykite „taip“ arba „ne“. Savo pasirinkimą paaiškinkite.

Ar galėjo karalius Mindaugas:

- 17.1. būti ką nors girdėjęs apie Saulės mūšį?

.....

 (1 taškas)

- 17.2. išplaukti į Baltijos jūrą karavelės tipo laivu?

.....

 (1 taškas)

- 17.3. valgyti patiekalus iš bulvių?

.....

 (1 taškas)

- 17.4. skaityti spausdintą Bibliją?

.....
 (1 taškas)

18. Parašykite, kada prasidėjo ir kada baigėsi viduramžiai.

Viduramžiai prasidėjo amžiuje ir truko iki amžiaus pabaigos.
(1 taškas)

19. Kelintame amžiuje atsirado islamo religija?

.....
(1 taškas)

20. Įsivaizduokite, kad pasinaudoję „laiko mašina“, pas Frankų imperatorių *Karolį Didįjį* iš skirtingų istorinių laikotarpių atvyko svečiai: *arabas*, *vikingas*, *kryžiuočių ordino riteris*, *vienuolis* ir imperatoriaus Oktaviano Augusto pasiūstas *romėnų karys*.



Frankų imperatorius Karolis Didysis



Arabas



Vikingas



Kryžiuočių ordino riteris



Romos imperijos karys



Vienuolis

20.1. Kurio iš atvykusiųjų svečių tėvynė yra ne Europos žemyne?

.....
(1 taškas)

20.2. Kuris iš svečių „atvyko“ iš senovės istorijos laikotarpio?

.....
(1 taškas)

20.3. Kuris iš svečių gyveno tuo pačiu laikotarpiu, kaip ir Karolis Didysis? Savo atsakymą paaiškinkite.

.....
(1 taškas)

20.4. Parašykite po vieną Karolio Didžiojo svečių, išpažįstantį nurodytą religiją:

Krikščionybė –

Pagonybė –

Islamas –

.....
(3 taškai)

20.5. Su vienu iš Karolio Didžiojo svečių XIII a. teko susidurti Lietuvos gyventojams. Nurodykite šį svečių ir savo atsakymą paaiškinkite.

.....

 (1 taškas)

21. Ką Saulės mūšyje nugalėjo žemaičių kariuomenė?

- A Kijevo Rusios kariuomenę.
- B Kuršių kariuomenę.
- C Vikingų kariuomenę.
- D Vokiečių kariuomenę.

(1 taškas)

22. Kuris dokumentas sukurtas senovės istorijos laikais?

- A Hamurabio įstatymas.
- B 95 Martyno Liuterio tezės.
- C Krėvos sutartis.
- D Pirmasis Lietuvos statutas.

(1 taškas)

23. Trys viduramžių vyrai – Benediktas, Todas ir Robinas – pasidavė senjoro Augusto globon ir prisiekė jam amžiną ištikimybę. Už tai iš Augusto jie gavo po feodą. Kuo Benediktas, Todas ir Robinas tapo senjorui Augustui?

.....

 (1 taškas)

24. Remdamiesi pateikta graviūra ir savo žiniomis, atsakykite į klausimus.

24.1. Kaip vadinamas istorinis laikotarpis, kuriame buvo sukurta ši graviūra?

.....
 (1 taškas)

24.2. Ką veikia graviūroje pavaizduoti žmonės?

.....

 (1 taškas)


24.3. Kaip vadinami graviūroje pavaizduoti žmonės (pagal jų užsiėmimą)?

.....
 (1 taškas)

24.4. Kuriam luomui jie priklauso?

.....
 (1 taškas)

Viduramžių graviūra



- 24.5. Palyginę graviūroje matomų žmonių amžių, aprangą ir atliekamą darbą, paaiškinkite, kodėl viduramžių dailininkas pavaizdavo vienoje patalpoje dirbančius **tris** žmones?

.....

.....

.....

(1 taškas)

25. Remdamiesi šaltiniais A, B, C, D ir savo žiniomis, atsakykite į žemiau pateiktus klausimus.


ŠALTINIS A (Iš istorijos vadovėlio)

Didelėje Romos imperijoje gyveno žmonių, kurie išsigelbėjimą matė ne politinėje, o dvasinėje srityje. Tūkstančiai išgirdo ir tikėjo, kad žemėje pasirodė Dievas žmogaus pavidalu, Jis vadinęsis Jėzumi Kristumi. Jėzus skelbęs naują mokymą apie Dangaus Karalystę.


ŠALTINIS B (Iš vidurinių amžių dokumento)

Alachas pasiuntė mane pas jus kaip pasiuntinį, davė man knygą ir įsakė būti jūsų apreiškėju ir sergėtoju. Aš paskelbiau jums savo valią ir mokiau jus; jeigu jūs priimsite iš manęs tai, ką jums atnešiau, tai būsite laimingi šiame ir būsimame gyvenime.

ŠALTINIS C
(Jėzus Nazaretis)



ŠALTINIS D
(Koranas)



- 25.1. Šaltiniuose A, B, C, D vaizduojami du istorijos laikotarpiai. Įvardinkite juos.

.....

.....

(2 taškai)

- 25.2. Kokia bendra tema sieja šaltinius A, B, C, D?

.....

.....

(1 taškas)

- 25.3. Šaltiniuose A, B, C, D vaizduojamos ir aprašomos dvi religijos. Įvardykite abi religijas ir jų pradininkus.

- Religija
- Pradininkas
- Religija
- Pradininkas

(2 taškai)

- 25.4. Šaltinyje C pavaizduota rankose laikoma knyga. Kaip vadinama ši knyga?

.....

(1 taškas)

25.5. Šaltinyje D pavaizduota knyga. Kaip ji vadinama?

.....
(1 taškas)

25.6. Abi religijos turi bendrų bruožų. Įvardyk vieną bendrą abiejų religijų bruožą.

.....
(1 taškas)

26. Remdamiesi žemėlapiu atlikite užduotis.

26.1. Kaip vadinama valstybė, pavaizduota žemėlapyje?

.....
(1 taškas)

26.2. Kiek maždaug kartų padidėjo valstybės teritorija valdant Gediminui?

.....
(1 taškas)



26.3. Kuria kryptimi valstybės teritorija plėtėsi Algirdo laikais?

.....
(1 taškas)

26.4. Apie kurį iš valdovų yra sakoma: *valdė nuo jūros iki jūros*? Parašykite valdovą bei abiejų jūrų pavadinimus.

Valdovas

valdė nuo *jūros iki* *jūros*
(2 taškai)

26.5. Su kuriuo priešų XIV a. **pietryčiuose** kariavo Algirdas ir Vytautas Didysis?

.....
(1 taškas)